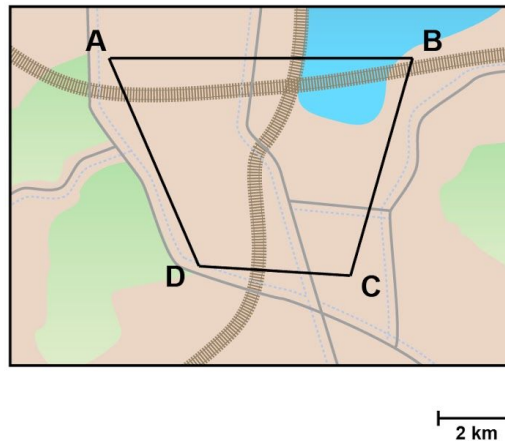


## Meten 11C

**Eiland:** Lengte met schaalverhouding  
**Doel:** Maken van een afstandstabel via opmeten met schaal

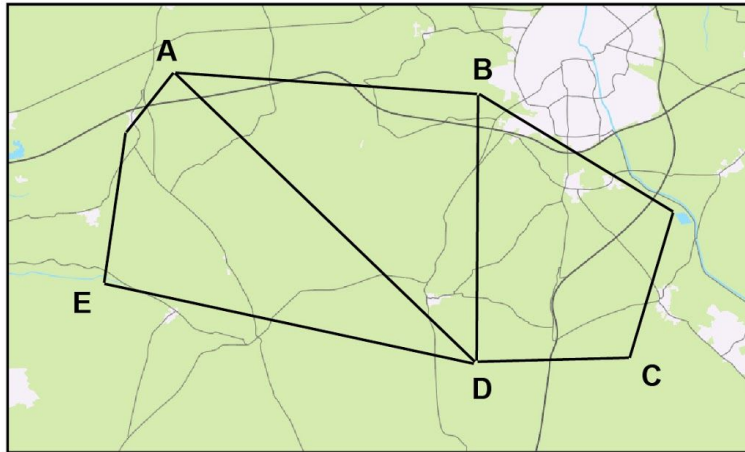


**Opgave 1** Maak een afstandstabel. Kies steeds de kortste route.



	A	B	C	D
A	X	km	km	km
B	km	X	km	km
C	km	km	X	km
D	km	km	km	X

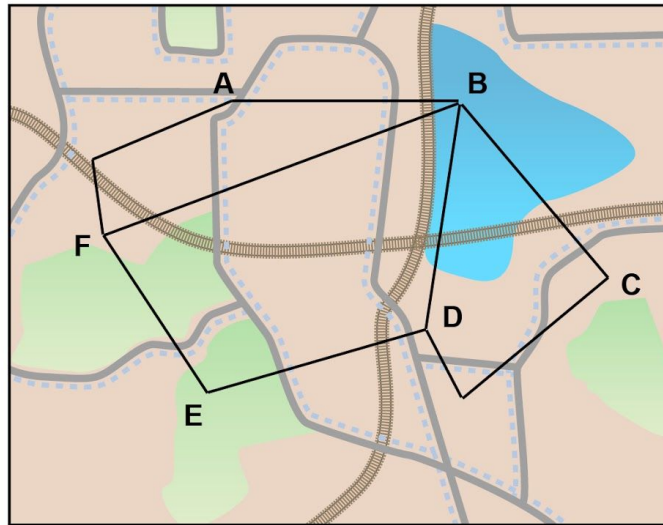
**Opgave 2** Maak een afstandstabel. Kies steeds de kortste route.



3 km

	A	B	C	D	E
A	X	km	km	km	km
B	km	X	km	km	km
C	km	km	X	km	km
D	km	km	km	X	km
E	km	km	km	km	X

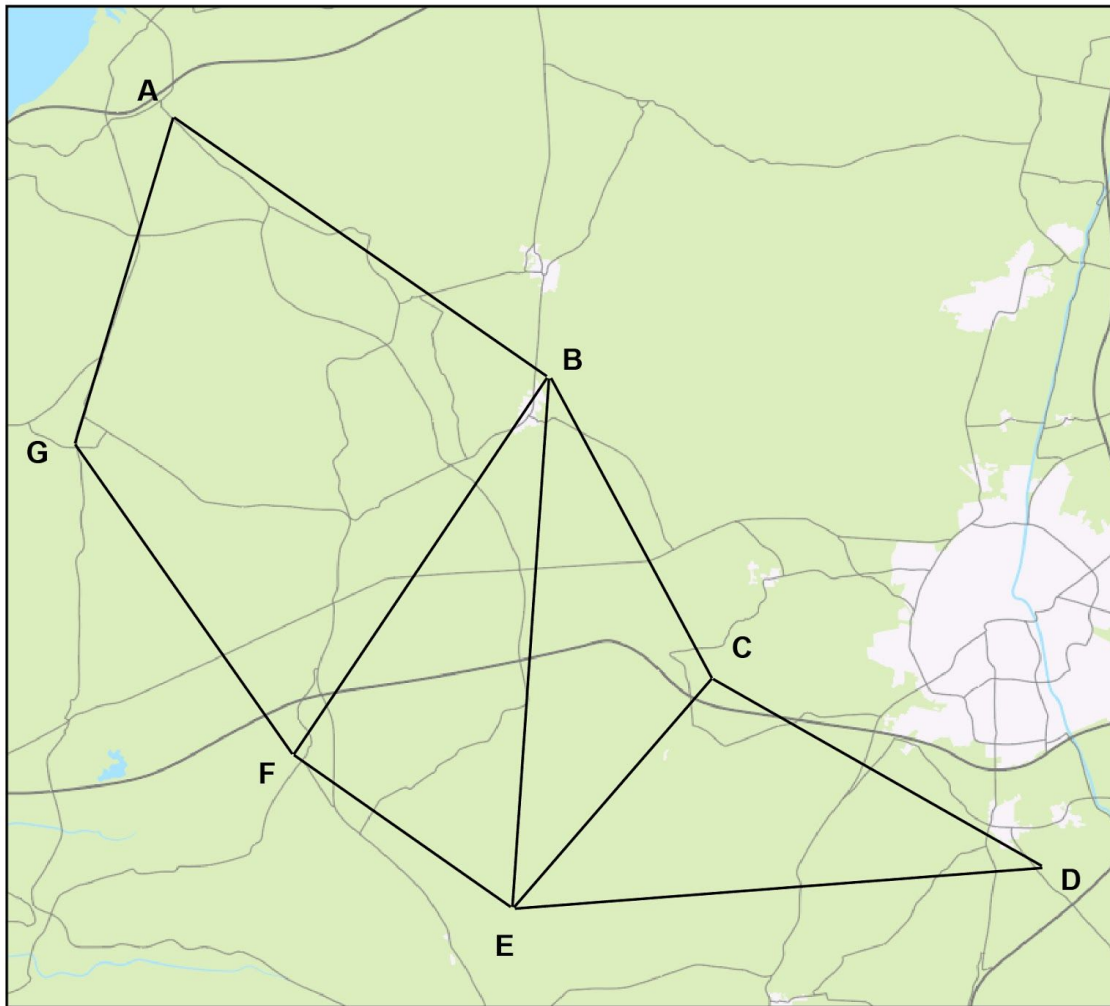
**Opgave 3** Maak een afstandstabel. Kies steeds de kortste route.



2 km

	A	B	C	D	E	F
A	X	km	km	km	km	km
B	km	X	km	km	km	km
C	km	km	X	km	km	km
D	km	km	km	X	km	km
E	km	km	km	km	X	km
F	km	km	km	km	km	X

**Opgave 4** Maak een afstandstabel. Kies steeds de kortste route.



2 km

	A	B	C	D	E	F	G
A	X	km	km	km	km	km	km
B	km	X	km	km	km	km	km
C	km	km	X	km	km	km	km
D	km	km	km	X	km	km	km
E	km	km	km	km	X	km	km
F	km	km	km	km	km	X	km
G	km	km	km	km	km	km	X