

Meten 13C

Eiland: Berekenen van een omtrek

Doel: Berekenen van een omtrek met schaal via opmeten



Opgave 1 Wat is de omtrek van het toilet?

_____m

Opgave 2 Wat is de omtrek van de speelkamer?

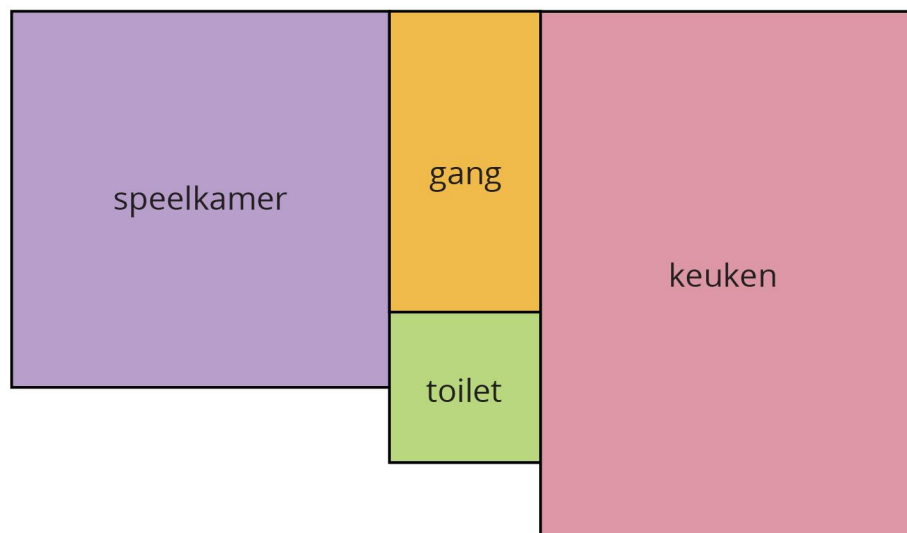
_____m


Opgave 3 Wat is de omtrek van de gang?

_____m


Opgave 4 Wat is de omtrek van de keuken?

_____m



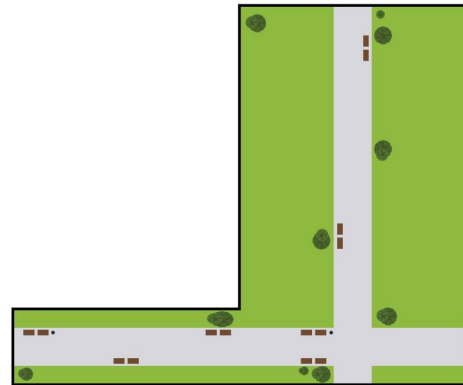
 = 1 m

Opgave 5 Wat is de omtrek? _____m




| | = 10 m

Opgave 6 Wat is de omtrek? _____m



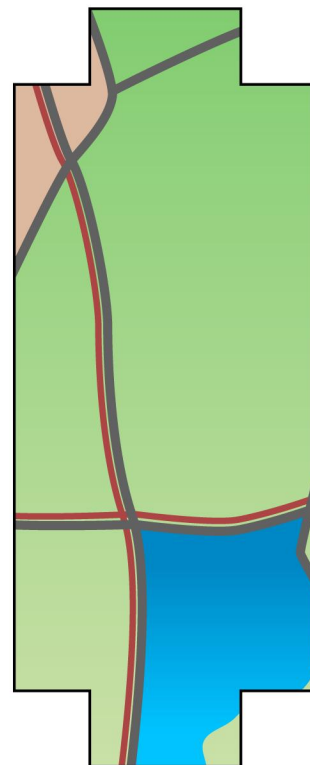
| | = 2 m

Opgave 7 Wat is de omtrek? _____m



| | = 1 m

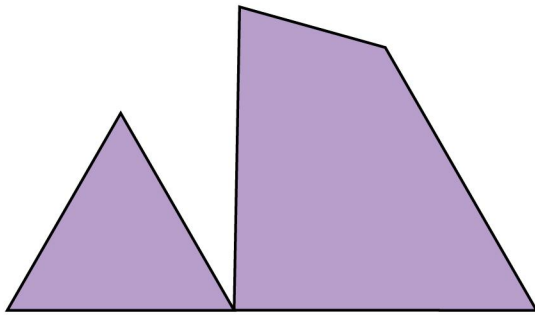
Opgave 8 Wat is de omtrek? _____km



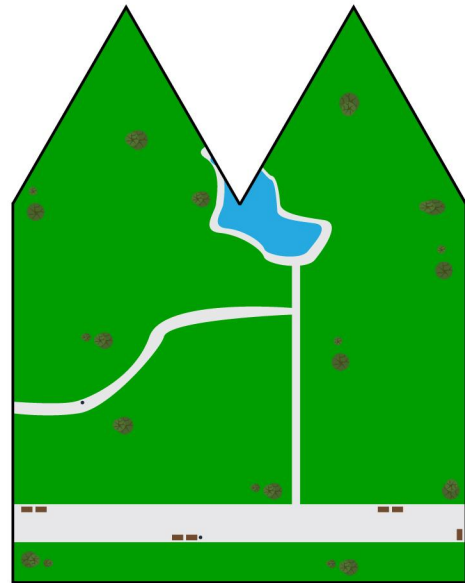
| | = 2 km

Opgave 9 Wat is de omtrek? _____m

Opgave 10 Wat is de omtrek? _____km



—| = 1 m



—| = 2 km