


Meten 14C

Eiland: Rekenen met omtrek
Leerdoel: Teken van een omtrek op hokjes




Opgave 1 Teken een vierkant met een omtrek van 16 meter.




— = 1 m

Opgave 2 Teken twee verschillende figuren met een omtrek van 12 meter.




— = 1 m

Opgave 3 Teken een rechthoek met een omtrek van 10 meter.



— = 1 m


Opgave 4 Teken een rechthoek met een omtrek van 16 meter.



— = 1 m

Opgave 5 Teken een figuur met een omtrek van 18 meter.

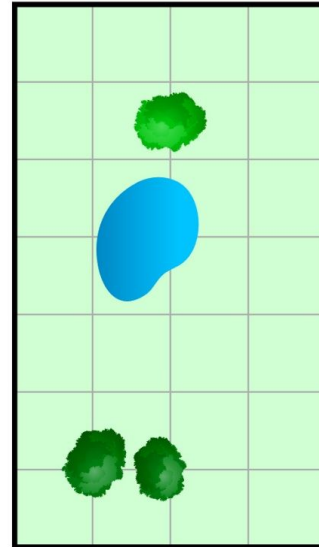
Het mag geen vierkant of rechthoek zijn.



—| = 1 m

Opgave 6 De omtrek van het hek is 12 meter. Teken het hek.

Petra wil een hek plaatsen in haar tuin. Het hek moet om de struik en de vijver komen, maar niet om de bomen.



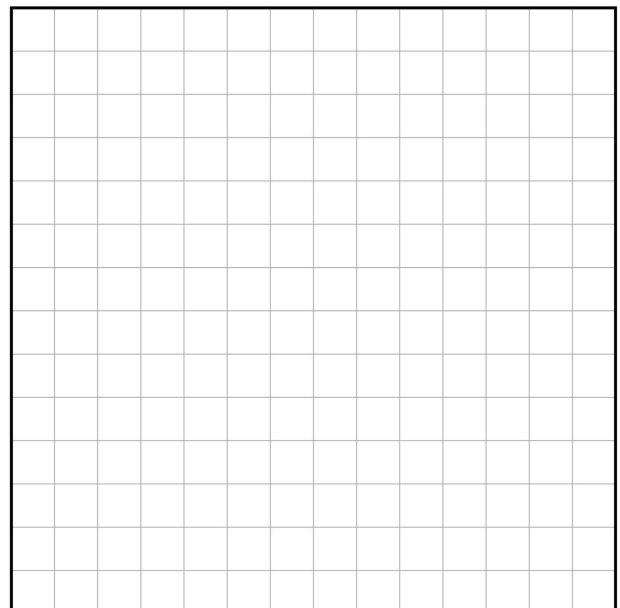
—| = 1 m

Opgave 7 Teken drie verschillende figuren met een omtrek van 10 meter.



—| = 1 m

Opgave 8 Teken drie verschillende figuren met een omtrek van 14 meter.



—| = 1 m