

Meten 17B

Eiland: Berekenen van een oppervlakte
Doel: Berekenen van een oppervlakte met schaal via opmeten

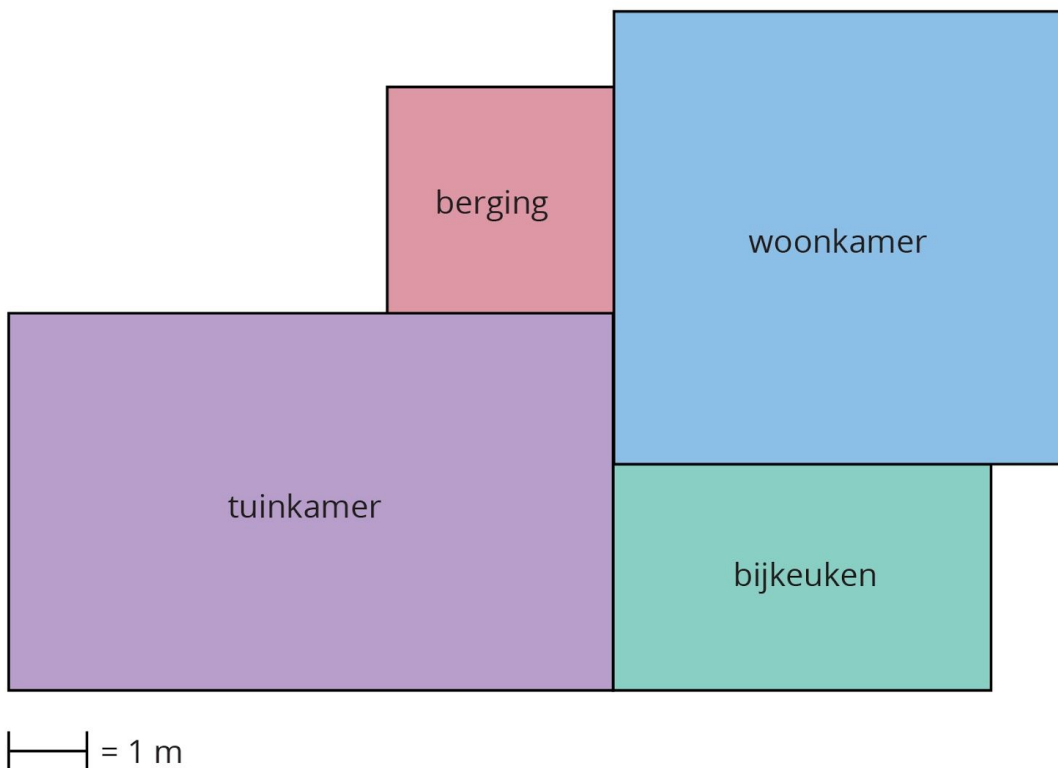


Opgave 1 Wat is de oppervlakte van de berging?
 _____ m²

Opgave 2 Wat is de oppervlakte van de woonkamer?
 _____ m²


Opgave 3 Wat is de oppervlakte van de bijkeuken?
 _____ m²

Opgave 4 Wat is de oppervlakte van de tuinkamer?
 _____ m²



Opgave 5 Wat is de oppervlakte?

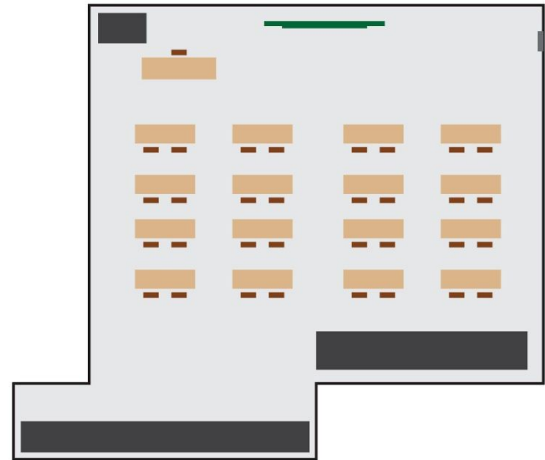
_____ km²



_____ = 10 km

Opgave 6 Wat is de oppervlakte?

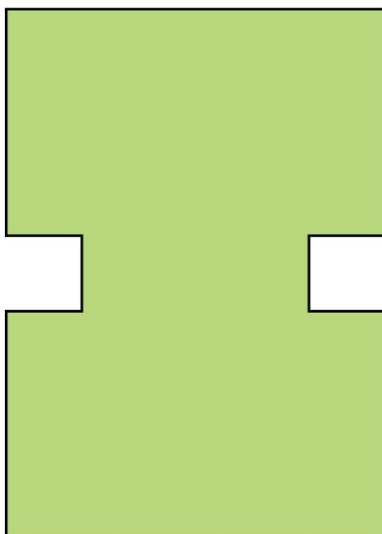
_____ m²



_____ = 2 m

Opgave 7 Wat is de oppervlakte?


_____ km²



_____ = 10 km

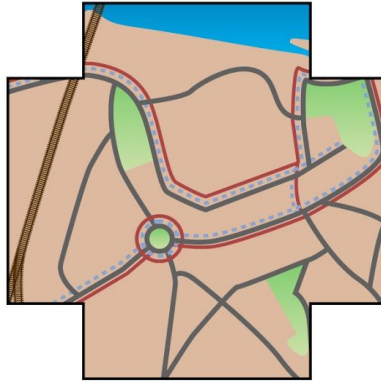
Opgave 8 Wat is de oppervlakte?

_____ km²



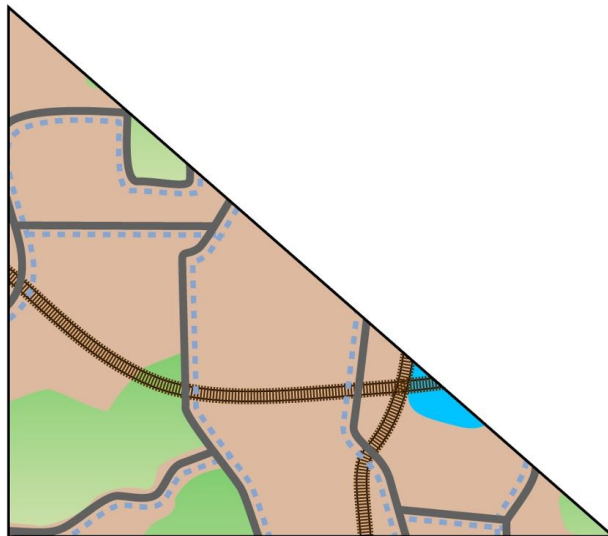
_____ = 2 km

Opgave 9 Wat is de oppervlakte? _____ km²



|—| = 1 km

Opgave 10 Wat is de oppervlakte? _____ km²



|—| = 2 km