

Meten 17C



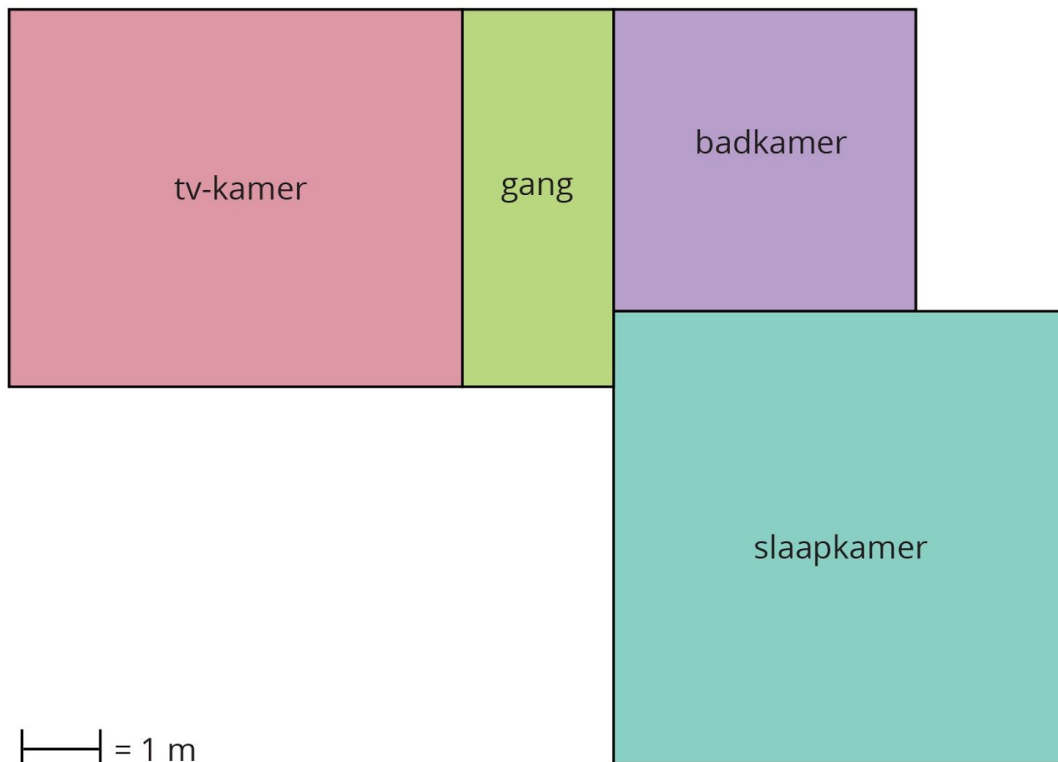
Eiland: Berekenen van een oppervlakte
Doel: Berekenen van een oppervlakte met schaal via opmeten

Opgave 1 Wat is de oppervlakte van de badkamer?
 _____ m^2

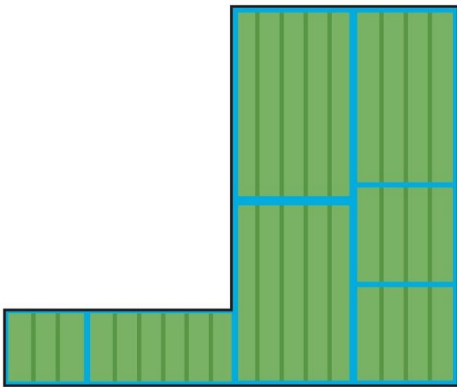
Opgave 2 Wat is de oppervlakte van de slaapkamer?
 _____ m^2

Opgave 3 Wat is de oppervlakte van de gang?
 _____ m^2

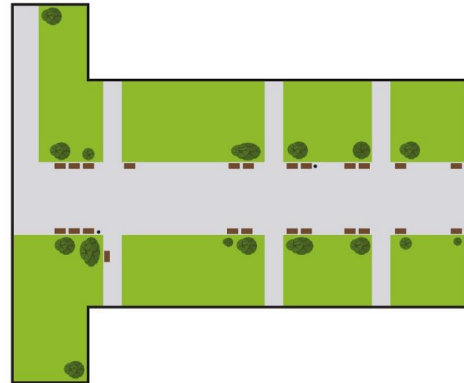
Opgave 4 Wat is de oppervlakte van de tv-kamer?
 _____ m^2



Opgave 5 Wat is de oppervlakte? _____ km² **Opgave 6** Wat is de oppervlakte? _____ m²

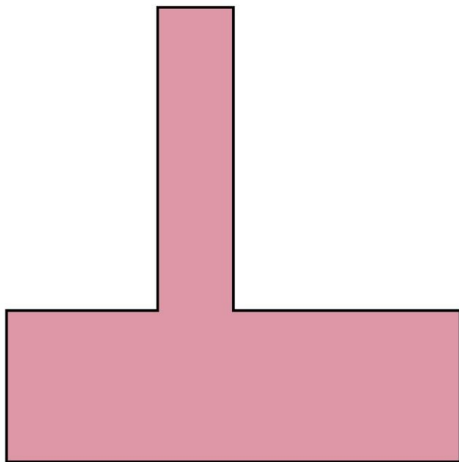


— = 2 km




— = 10 m

Opgave 7 Wat is de oppervlakte? _____ km² **Opgave 8** Wat is de oppervlakte? _____ m²

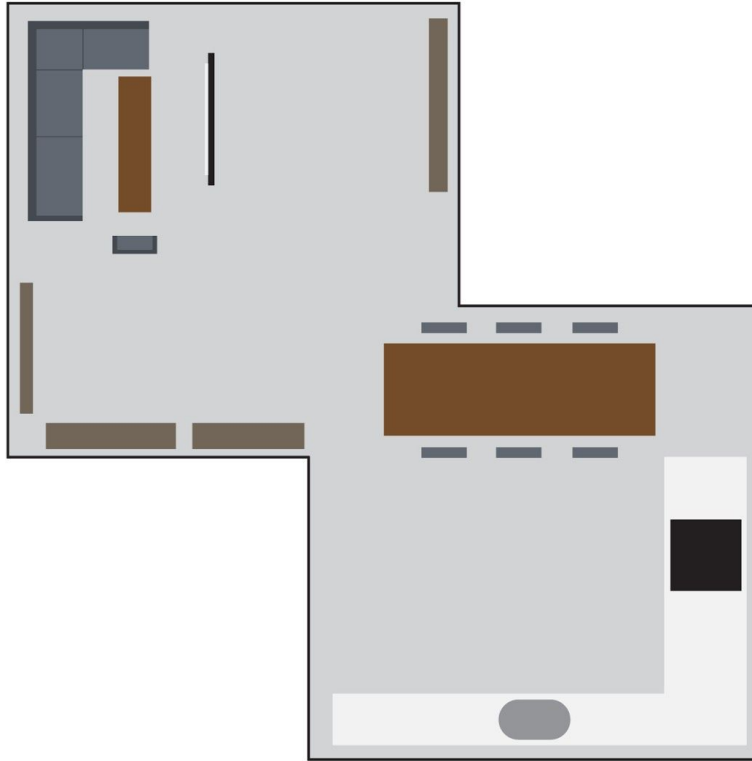


— = 2 km



— = 10 m

Opgave 9 Wat is de oppervlakte? _____m²



— = 1 m

Opgave 10 Wat is de oppervlakte? _____km²



— = 2 km