

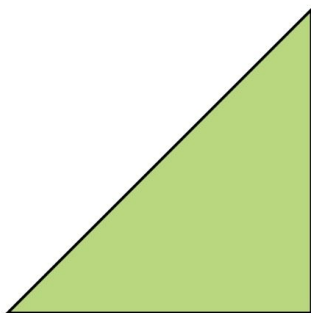
Meten 18B

Eiland: Berekenen van een oppervlakte
Doel: Berekenen van een complexe oppervlakte via opmeten



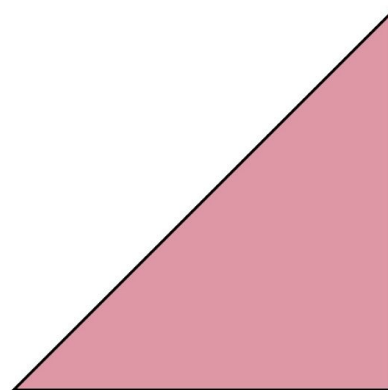
Opgave 1 Wat is de oppervlakte van deze driehoek?

_____ cm²




Opgave 2 Wat is de oppervlakte van deze driehoek?

_____ cm²



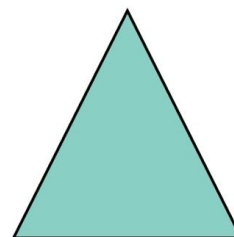
Opgave 3 Wat is de oppervlakte van deze driehoek?

_____ cm²



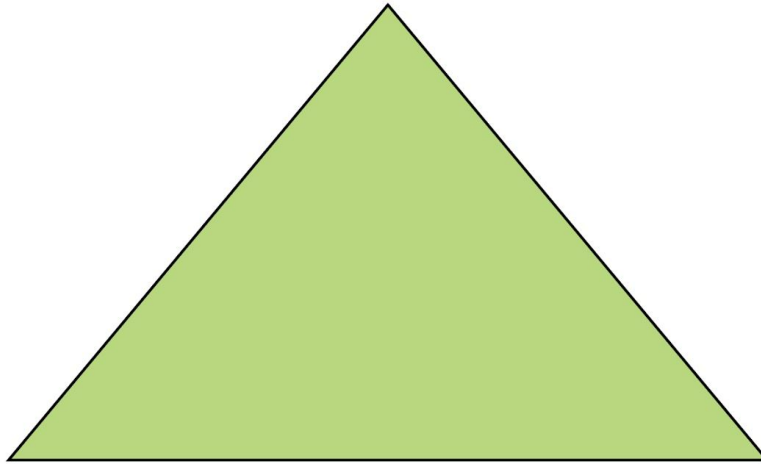
Opgave 4 Wat is de oppervlakte van deze driehoek?

_____ cm²



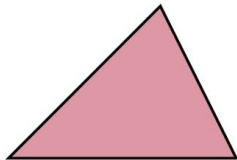
Opgave 5 Wat is de oppervlakte van deze driehoek?

_____ cm²



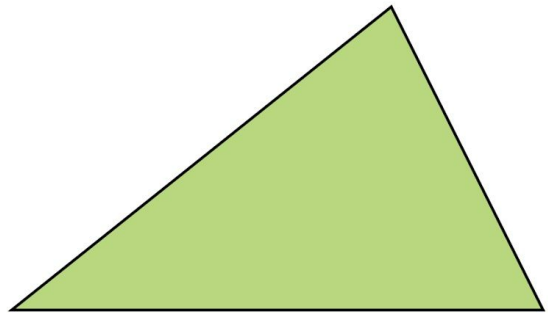
Opgave 6 Wat is de oppervlakte van deze driehoek?

_____ cm²



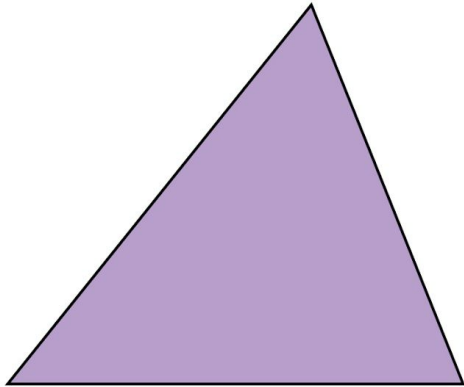
Opgave 7 Wat is de oppervlakte van deze driehoek?

_____ cm²



Opgave 8 Wat is de oppervlakte van deze driehoek?

_____ cm²



Opgave 9 Wat is de oppervlakte van dit figuur?

_____ cm²



Opgave 10 Wat is de oppervlakte van dit figuur?

_____ cm²

