
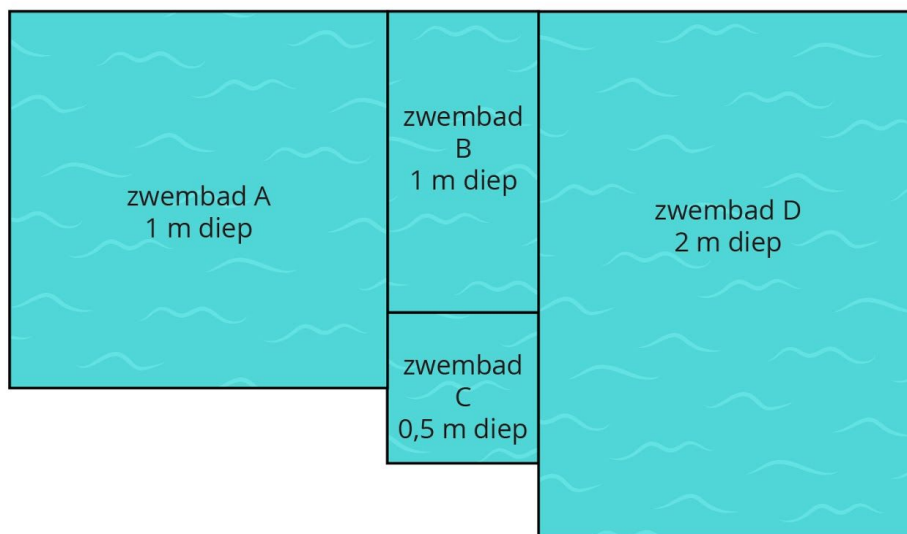
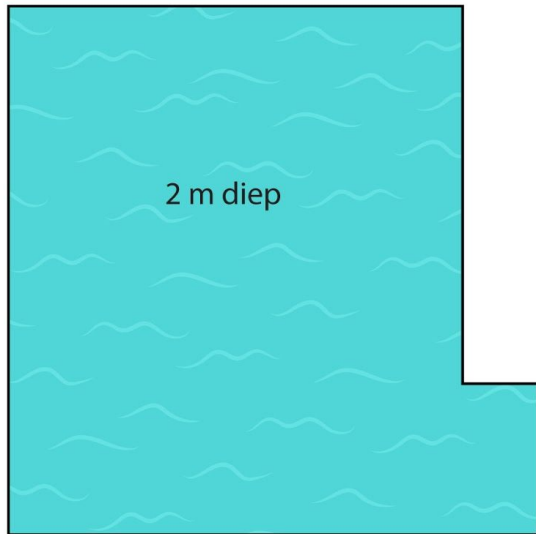


Meten 23A **Eiland:** Kubieke maten**Doel:** Bepalen van oppervlakten en inhoud met schaal**Opgave 1** Wat zijn de oppervlakte en inhoud van zwembad A?Oppervlakte _____ m^2 en inhoud _____ m^3 .**Opgave 3** Wat zijn de oppervlakte en inhoud van zwembad C?Oppervlakte _____ m^2 en inhoud _____ m^3 .**Opgave 2** Wat zijn de oppervlakte en inhoud van zwembad B?Oppervlakte _____ m^2 en inhoud _____ m^3 .**Opgave 4** Wat zijn de oppervlakte en inhoud van zwembad D?Oppervlakte _____ m^2 en inhoud _____ m^3 . = 1 m

Opgave 5 Wat zijn de oppervlakte en inhoud?

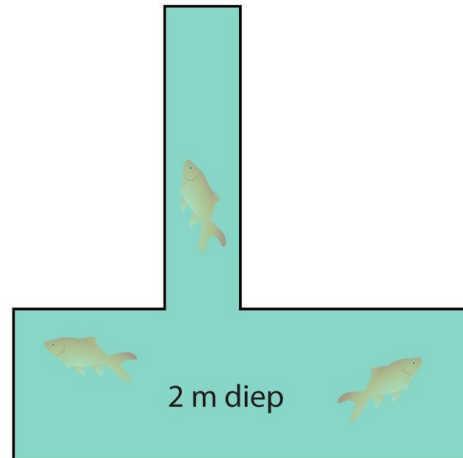
Oppervlakte _____ m^2 en inhoud _____ m^3 .



—| = 1 m

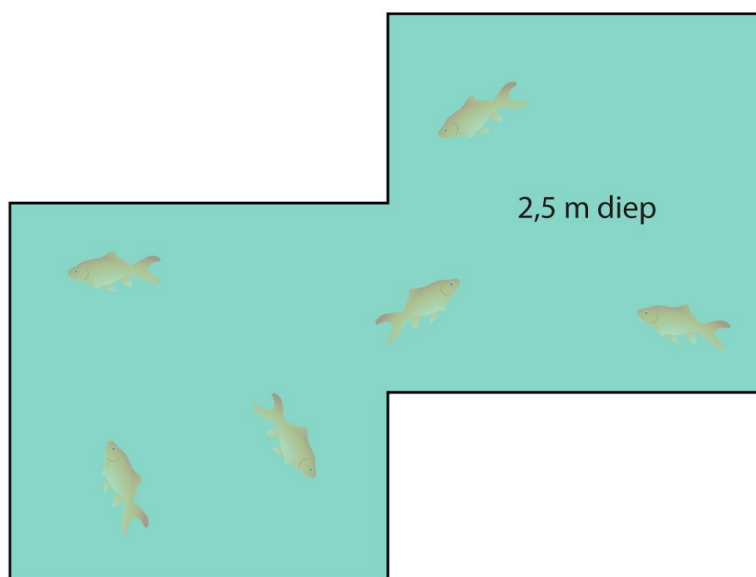
Opgave 6 Wat zijn de oppervlakte en inhoud?

Oppervlakte _____ m^2 en inhoud _____ m^3 .



—| = 1 m

Opgave 7 Wat zijn de oppervlakte en inhoud? Oppervlakte _____ m^2 en inhoud _____ m^3 .

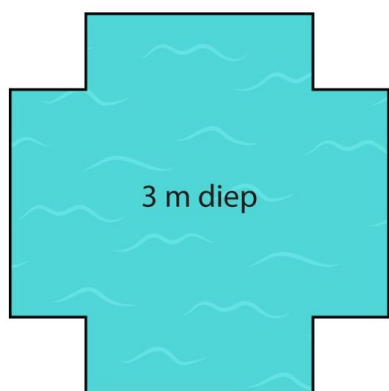


—| = 1 m

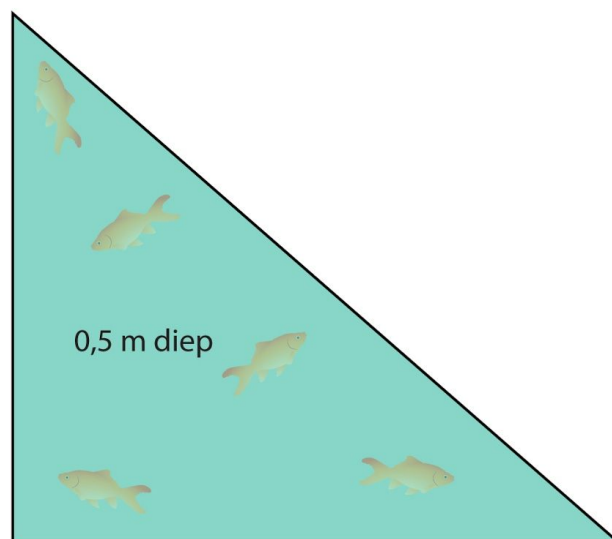
Opgave 8 Wat zijn de oppervlakte en inhoud?

Opgave 9 Wat zijn de oppervlakte en inhoud?

Oppervlakte _____ m^2 en inhoud _____ m^3 . Oppervlakte _____ m^2 en inhoud _____ m^3 .

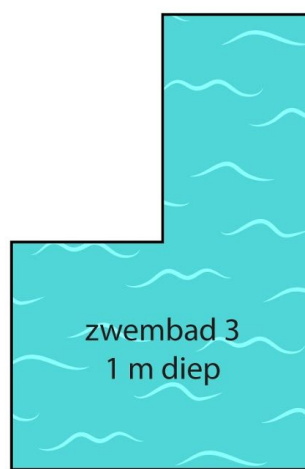


| | = 1 m



| | = 1 m

Opgave 10 Welk zwembad heeft de grootste inhoud? _____



| | = 2 m