

## Meten 5A

**Eiland:** Lengte met schaalverhouding  
**Doel:** Berekenen van afstand met schaal

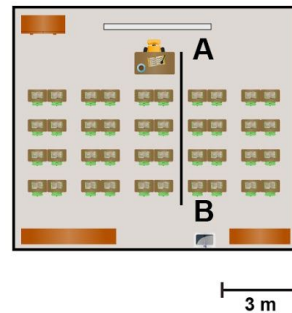
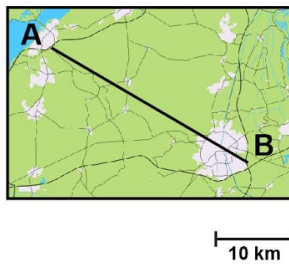


**Opgave 1** Wat is de afstand tussen A en B?

**Opgave 2** Wat is de afstand tussen A en B?

\_\_\_\_\_ kilometer

\_\_\_\_\_ meter



**Opgave 3** Wat is de afstand van A naar D via B en C?

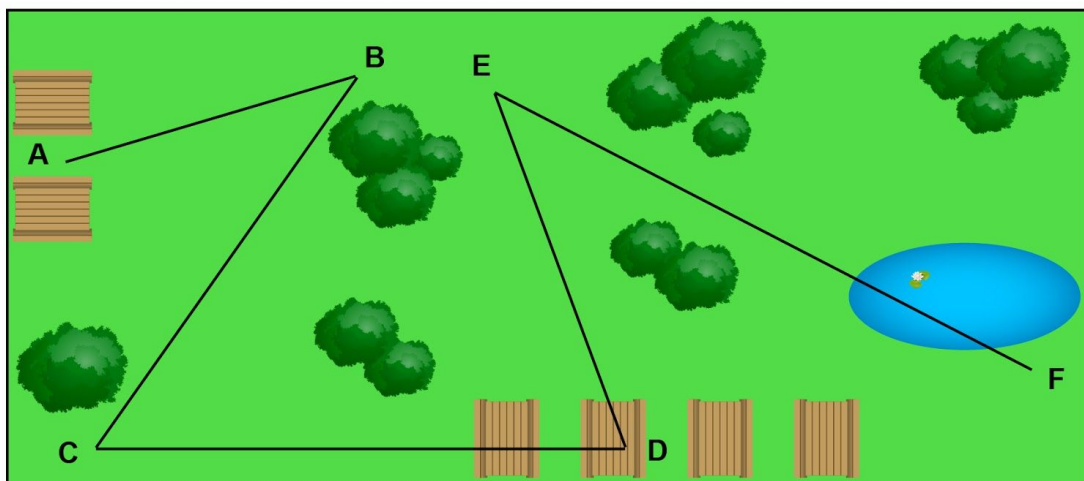
**Opgave 4** Wat is de afstand van B naar E via C en D?

\_\_\_\_\_ meter

\_\_\_\_\_ meter

**Opgave 5** Wat is de afstand van C naar F via D en E?

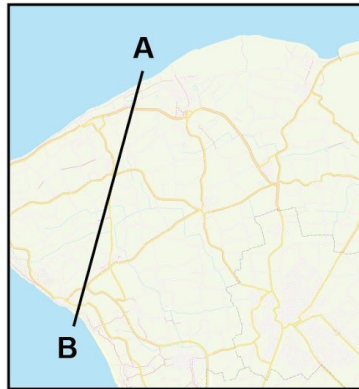
\_\_\_\_\_ meter



2 m

**Opgave 6** Wat is de afstand tussen A en B?

\_\_\_\_\_ kilometer



4 km

**Opgave 7** Wat is de afstand tussen A en F?

\_\_\_\_\_ kilometer

**Opgave 8** Wat is de kortste afstand van A naar D?

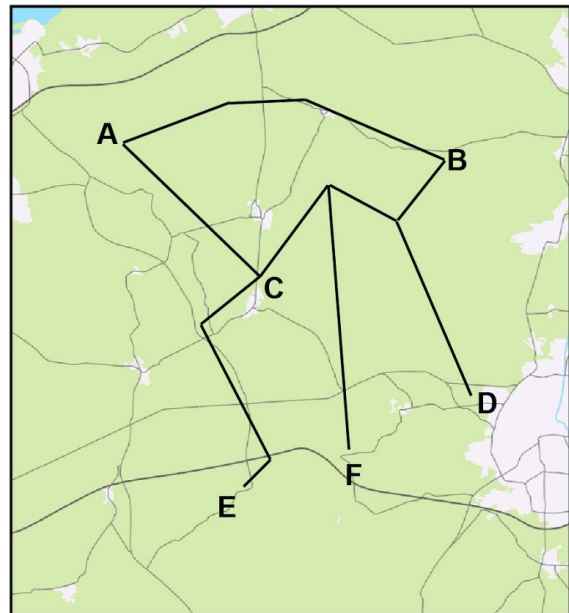
\_\_\_\_\_ kilometer

**Opgave 9** Wat is de kortste afstand van B naar E?

\_\_\_\_\_ kilometer

**Opgave 10** Wat is de kortste afstand van A naar F?

\_\_\_\_\_ kilometer



5 km