

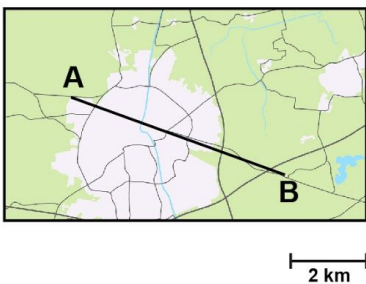
Meten 5B

Eiland: Lengte met schaalverhouding
Doel: Berekenen van afstand met schaal



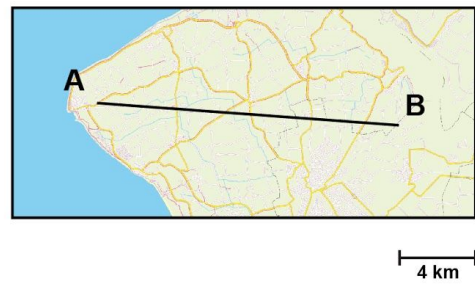
Opgave 1 Wat is de afstand tussen A en B?

_____ kilometer



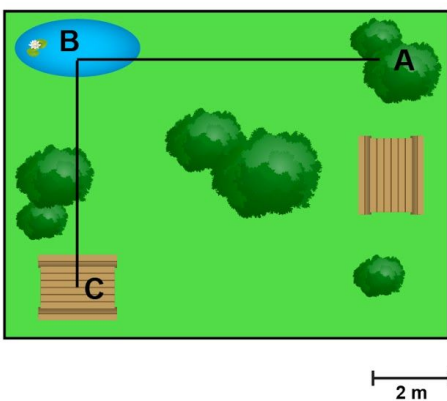
Opgave 2 Wat is de afstand tussen A en B?

_____ kilometer



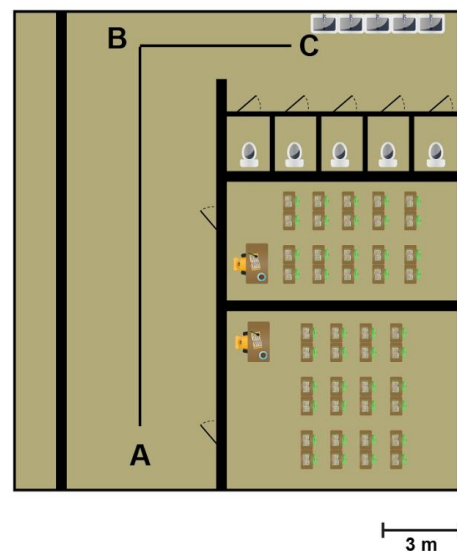
Opgave 3 Wat is de afstand van A naar C via B?

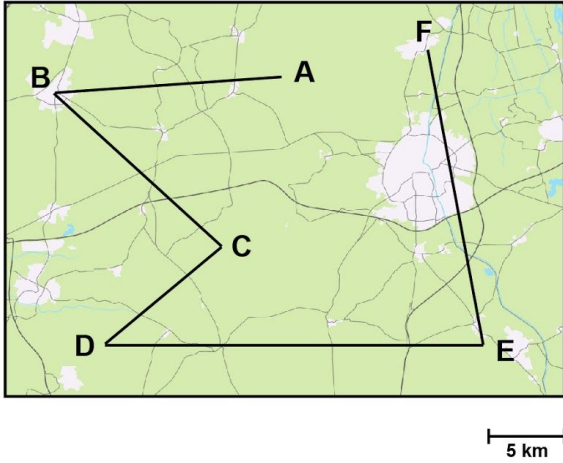
_____ meter



Opgave 4 Wat is de afstand van A naar C via B?

_____ meter





Opgave 5 Wat is de afstand van A naar D via B en C?

_____ kilometer

Opgave 6 Wat is de afstand van B naar E via C en D?

_____ kilometer

Opgave 7 Wat is de afstand van C naar F via D en E?

_____ kilometer

Opgave 8 Wat is de afstand van A naar D via B en C?

_____ meter

Opgave 9 Wat is de afstand van B naar E via C en D?

_____ meter

Opgave 10 Wat is de afstand van C naar F via D en E?

_____ meter

