

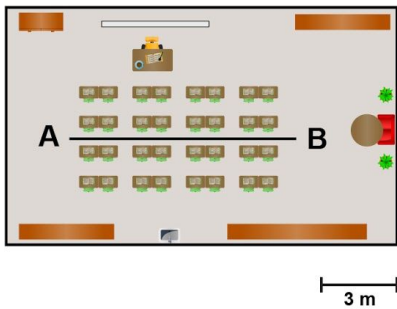
Meten 5C

Eiland: Lengte met schaalverhouding
Doel: Berekenen van afstand met schaal



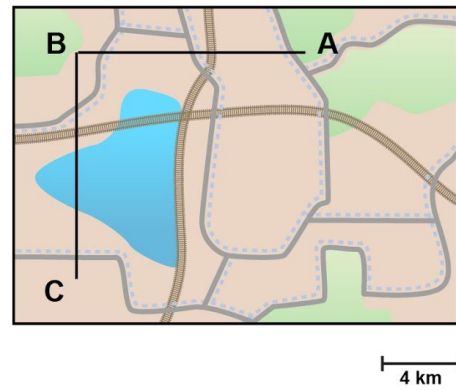
Opgave 1 Wat is de afstand tussen A en B?

_____ meter



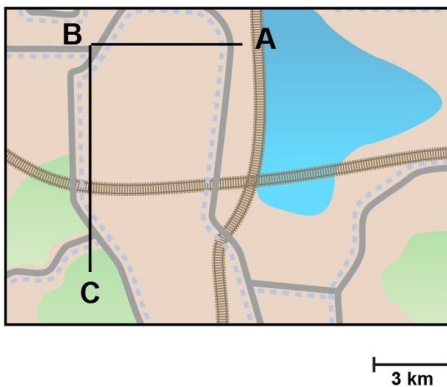
Opgave 2 Wat is de afstand van A naar C via B?

_____ kilometer



Opgave 3 Wat is de afstand van A naar C via B?

_____ kilometer



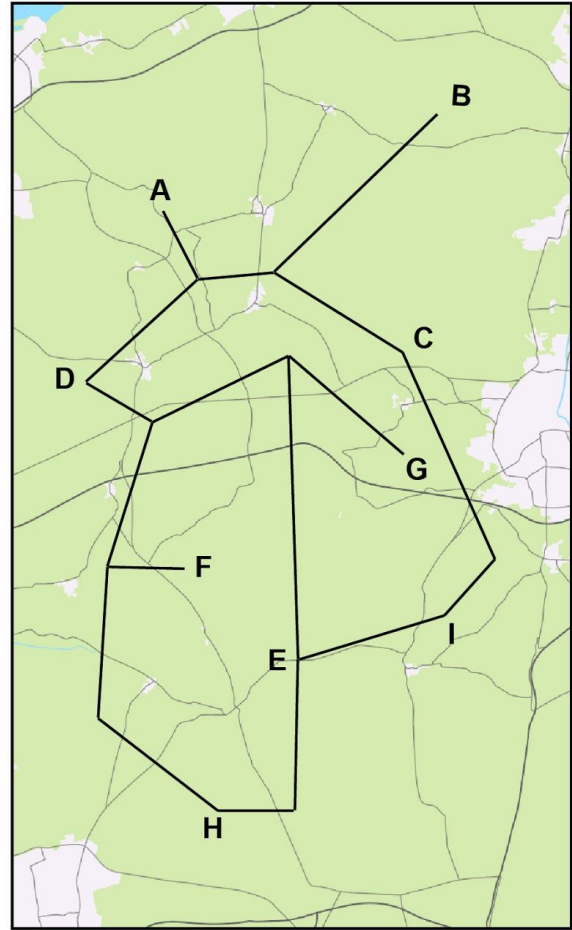
Opgave 4 Wat is de afstand tussen D en I?
 _____ kilometer

Opgave 5 Wat is de kortste afstand van A naar I?
 _____ kilometer

Opgave 6 Wat is de kortste afstand van C naar F?
 _____ kilometer

Opgave 7 Wat is de kortste afstand van G naar H?
 _____ kilometer

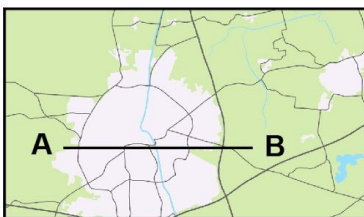
Opgave 8 Wat is de kortste afstand van B naar E?
 _____ kilometer



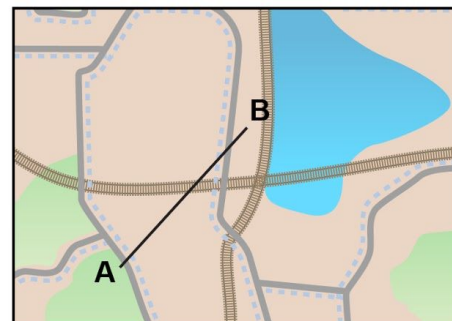
3 km

Opgave 9 Wat is de afstand tussen A en B?
 _____ kilometer

Opgave 10 Wat is de afstand tussen A en B?
 _____ kilometer



2 km



3 km