

Meten 6C

Eiland: Lengte met schaalverhouding
Doel: Berekenen van lengtes met schaal



Opgave 1 Wat is de lengte van de pen in het echt?

_____ centimeter



schaal 1 : 2

Opgave 2 Wat is de hoogte van de telefoon in het echt?


_____ centimeter



schaal 1 : 2

Opgave 3 Wat is de breedte van de tafel in het echt?

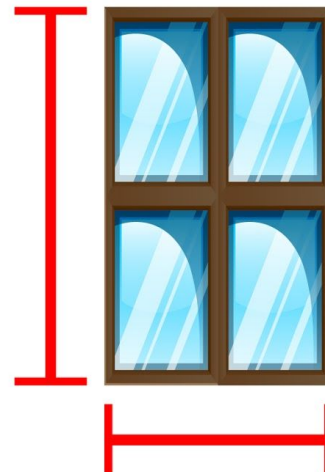
_____ centimeter



schaal 1 : 10

Opgave 4 Wat is de hoogte en breedte van het raam in het echt?

_____ en _____ centimeter



schaal 1 : 20

Opgave 5 Wat is de lengte van de bank in het echt?

_____ centimeter



schaal 1 : 50

Opgave 6 Wat is de lengte en hoogte van de vrachtwagen in het echt? *Noteer je antwoord in meters.*

_____ en _____ meter

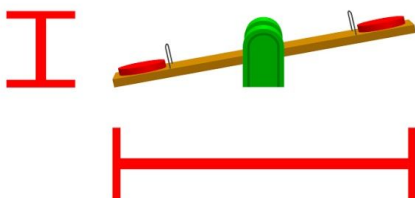


schaal 1 : 100

Opgave 7 Wat is de lengte en hoogte van de wip in het echt?

Noteer je antwoord in meters.

_____ en _____ meter

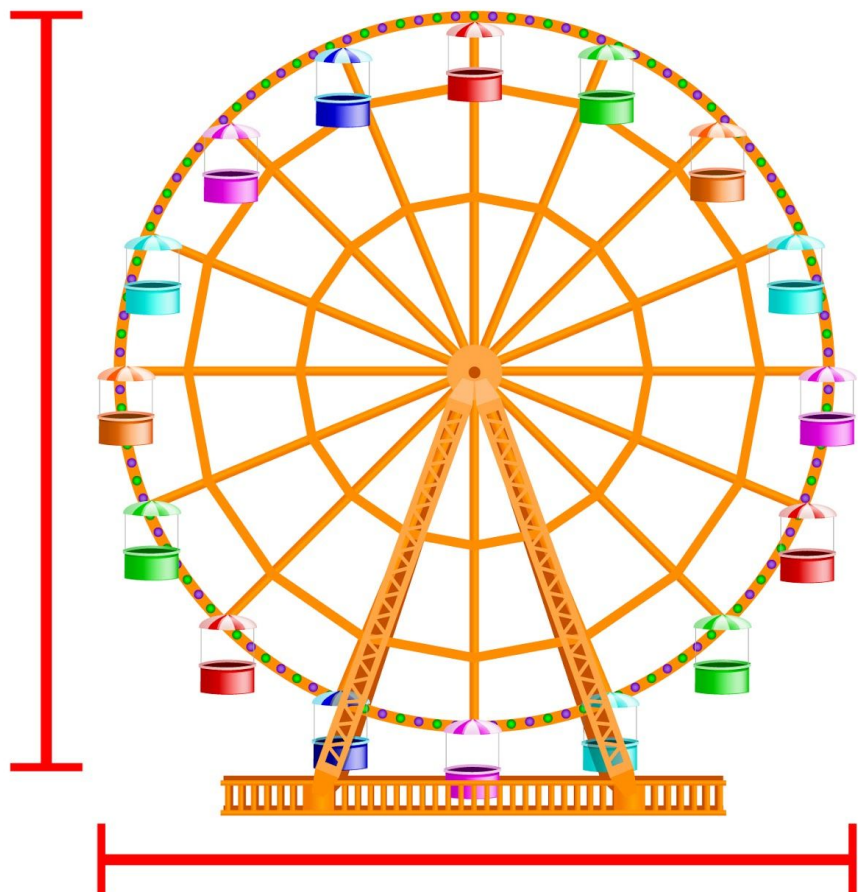


schaal 1 : 100

Opgave 8 Wat is de hoogte en breedte van het reuzenrad in het echt?

Noteer je antwoord in meters.

_____ en _____ meter



schaal 1 : 1500