

## Meten 9A


**Eiland:** Lengte met schaalverhouding  
**Doel:** Rekenen met verhoudingen met schaduw



**Opgave 1** Hoe lang is de schaduw in het echt?  
 \_\_\_\_\_ meter



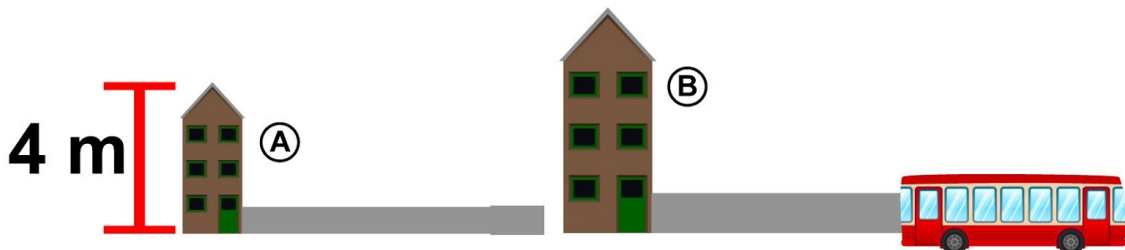
**Opgave 2** Hoe lang is de schaduw in het echt?  
 \_\_\_\_\_ meter



**Opgave 3** Hoe lang moet de schaduw van B op de tekening zijn?  
 \_\_\_\_\_ centimeter




**Opgave 4** Hoe lang is de totale schaduw van B in het echt?  
 \_\_\_\_\_ meter



**Opgave 5** Hoe hoog is gebouw B in het echt?

\_\_\_\_\_ meter



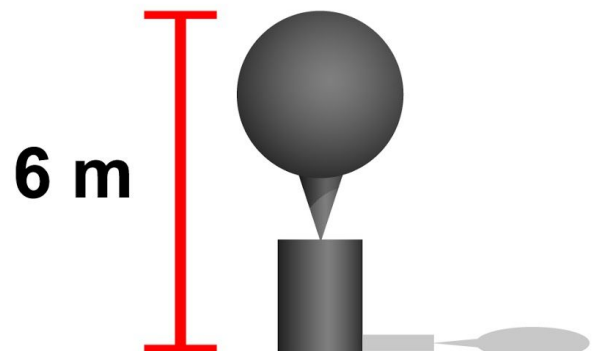
**Opgave 6** Hoe lang is de schaduw in het echt?

\_\_\_\_\_ meter



**Opgave 7** Hoe lang is de schaduw in het echt?

\_\_\_\_\_ meter



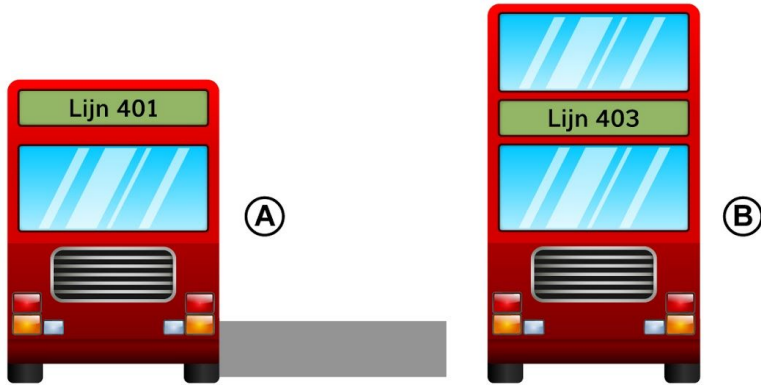
**Opgave 8** Hoe lang moet de schaduw van B op de tekening zijn?

\_\_\_\_\_ centimeter



**Opgave 9** Hoe lang moet de schaduw van B op de tekening zijn?

\_\_\_\_\_ centimeter



**Opgave 10** Hoe lang is de totale schaduw van B in het echt?

\_\_\_\_\_ meter

