

Meten 9B

Eiland: Lengte met schaalverhouding
Doel: Rekenen met verhoudingen met schaduw



Opgave 1 Hoe lang is de schaduw in het echt?

_____ meter




Opgave 2 Hoe lang is de schaduw in het echt?

_____ meter



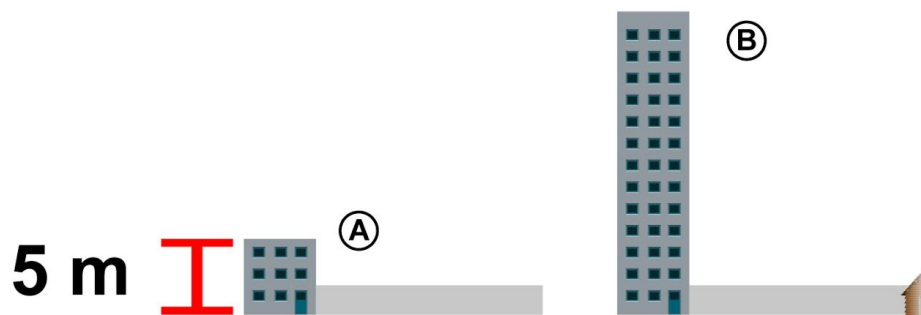
Opgave 3 Hoe lang moet de schaduw van B op de tekening zijn?

_____ centimeter




Opgave 4 Hoe lang is de totale schaduw van B in het echt?

_____ meter



Opgave 5 Hoe hoog is B in totaal in het echt?

_____ meter



Opgave 6 Hoe lang is de schaduw in het echt?

_____ meter




Opgave 7 Hoe lang is de schaduw in het echt?

_____ meter

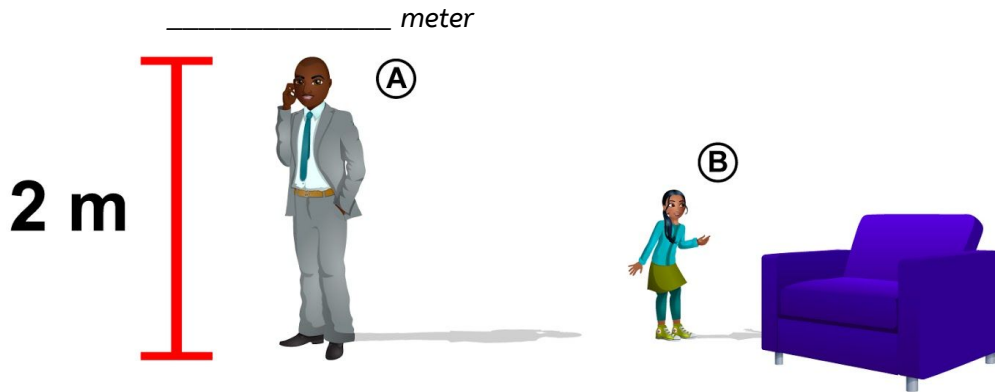


Opgave 8 Hoe lang moet de schaduw van B op de tekening zijn?

_____ centimeter



Opgave 9 Hoe lang is de totale schaduw van B in het echt?



Opgave 10 Hoe hoog is boom B in het echt?

