


Procenten, Breuken & Verhoudingen 1C


Eiland: Kennismaken met breuken
Doel: Verdelen van een figuur in gelijke delen




Opgave 1 Verdeel de taart in 2 gelijke stukken.



Opgave 2 Verdeel de taart in 4 gelijke stukken.



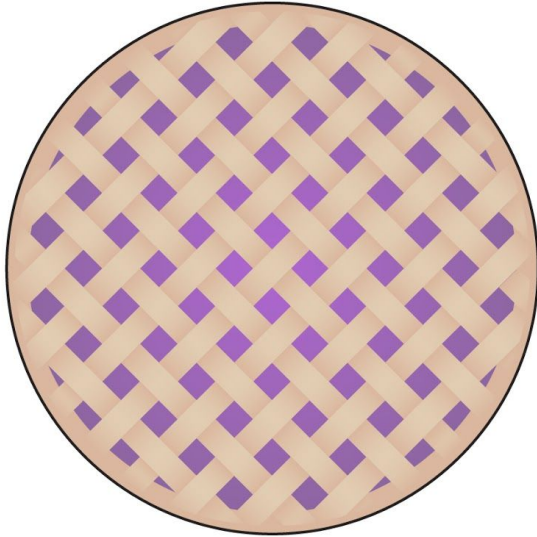
Opgave 3 Verdeel de taart in 8 gelijke stukken.



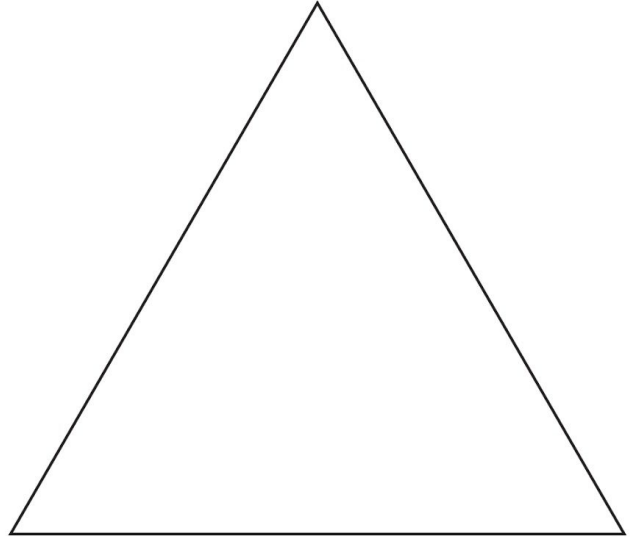
Opgave 4 Verdeel de taart in 3 gelijke stukken.




Opgave 5 Verdeel de taart in 10 gelijke stukken.



Opgave 6 Verdeel de driehoek in 2 gelijke stukken.



Opgave 7 Verdeel het figuur in 4 gelijke stukken.



Opgave 8 Verdeel de zeshoek in 6 gelijke stukken.

