

Procenten, Breuken & Verhoudingen 3C

Eiland: Kennismaken met breuken
Leerdoel: Weergeven van een breuk in een figuur



Liniaal




Potlood




Kleurpotloden

Opgave 1 Kleur $\frac{3}{10}$ deel.



Opgave 2 Kleur $\frac{1}{2}$ deel van het vierkant.



Opgave 3 Kleur $\frac{1}{2}$ deel van de rechthoek.



Opgave 4 Kleur $\frac{2}{5}$ deel van het stuk grond oranje.

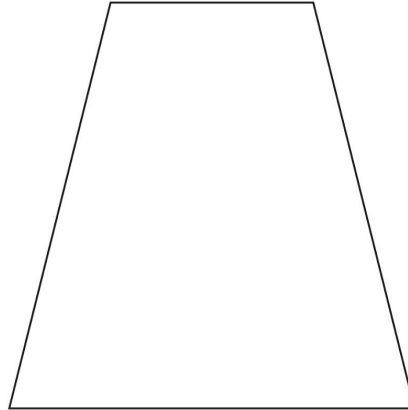
De gemeente heeft een stuk grond gekocht. $\frac{2}{5}$ deel van dit stuk grond wordt bebouwd met huizen.



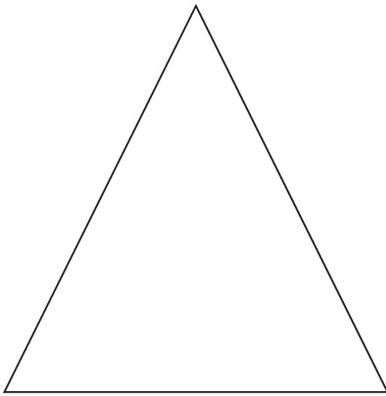
Opgave 5 Kleur $\frac{1}{3}$ deel van de fles.



Opgave 6 Kleur $\frac{2}{3}$ deel van deze plattegrond groen.




Opgave 7 Kleur $\frac{1}{4}$ deel van de driehoek.



Opgave 8 Kleur $\frac{2}{3}$ deel van de fles.



Opgave 9 Kleur $\frac{1}{3}$ deel op 3 verschillende manieren.



Opgave 10 Kleur $\frac{2}{3}$ deel.

