


Procenten, Breuken & Verhoudingen 5

Eiland: Rekenen met verhoudingen en aantallen
Leerdoel: Kleuren van aantallen in verhouding



Kleurpotloden



Opgave 1 Hoeveel bakjes?
 Kleur het aantal.




Opgave 2 Hoeveel bakjes?
 Kleur het aantal.




Opgave 3 Hoeveel bakjes?
 Kleur het aantal.







Opgave 4 Hoeveel boterhammen?
Kleur het aantal.

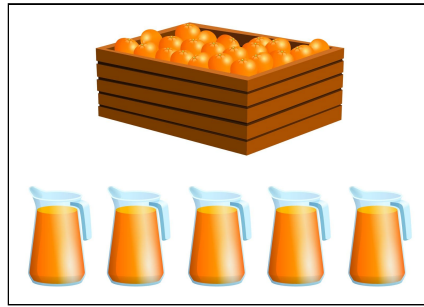


Opgave 5 Hoeveel boterhammen?
Kleur het aantal.



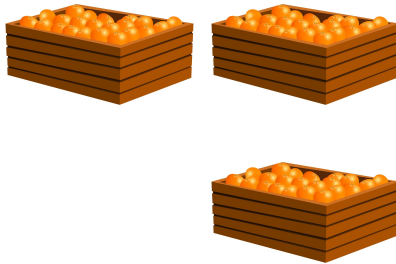
Opgave 6 Hoeveel boterhammen?
Kleur het aantal.





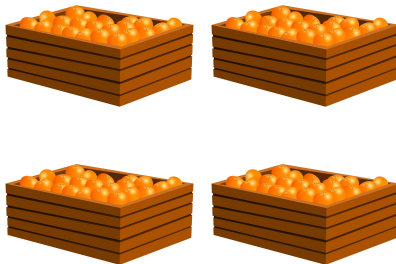
Opgave 7 Hoeveel kannen?


Kleur het aantal.




Opgave 8 Hoeveel kannen?

Kleur het aantal.





Opgave 9 Hoeveel stukken?
Kleur het aantal.



Opgave 10 Hoeveel stukken?
Kleur het aantal.

