

Procenten, Breuken & Verhoudingen 7A

Eiland: Kennismaken met percentages
Leerdoel: Weergeven van een percentage in een figuur




Liniaal




Kleurpotloden

Opgave 1 Kleur 50%.




Opgave 2 Kleur 30%.



Opgave 3 Kleur 50% van de muur rood.

Schilder Jan moet 50% van deze muur rood schilderen.



Opgave 4 Kleur 75% van de tuin groen.

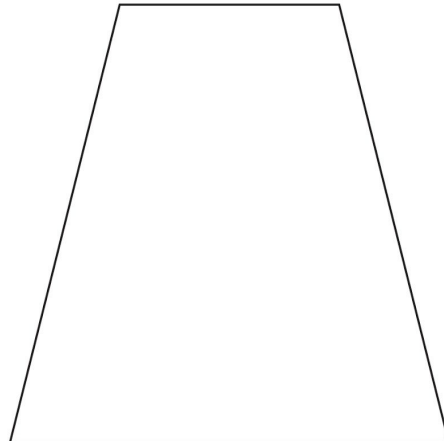
De tuin van Henk is toe aan een opknopbeurt. Henk wil dat 75% van zijn tuin uit gras bestaat.



Opgave 5 Kleur 25% van de fles.

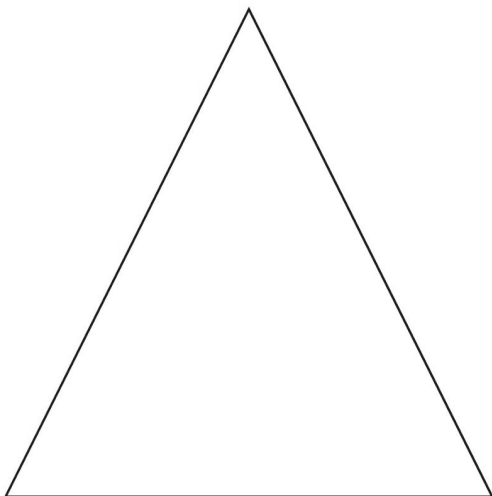


Opgave 6 Kleur 50% van dit figuur.

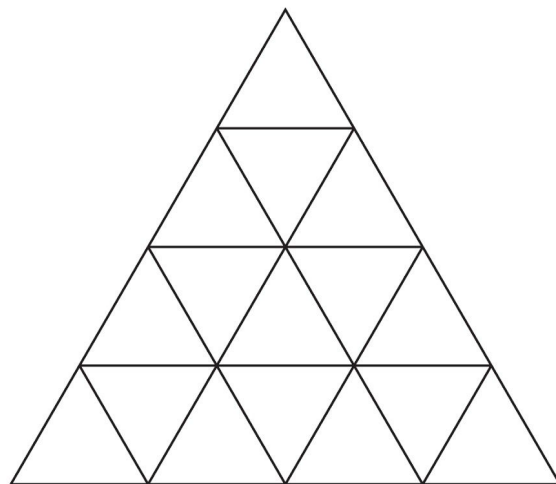


Opgave 7 Kleur 75% van de plattegrond rood.


Dit is een plattegrond van een pretpark. Op 75% van het pretpark staan attracties.



Opgave 8 Kleur 25%.



Opgave 9 Kleur 25% op 3 verschillende manieren.



Opgave 10 Kleur 50% op 3 verschillende manieren.

