

Procenten, Breuken & Verhoudingen 7B

Eiland: Kennismaken met percentages
Leerdoel: Weergeven van een percentage in een figuur




Liniaal




Kleurpotloden

Opgave 1 Kleur 25%.




Opgave 2 Kleur 60%.



Opgave 3 Kleur 75% van de speeltuin groen.

Dit is een plattegrond van een speeltuin. De gemeente wil dat 75% gras wordt.



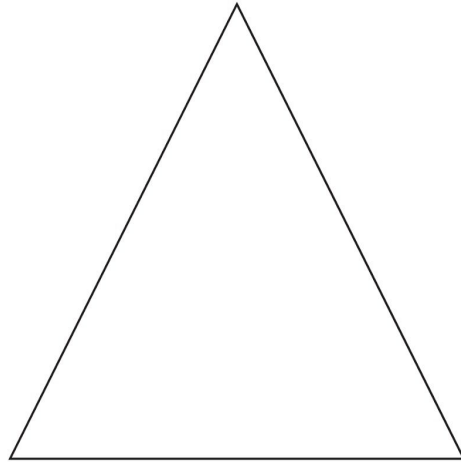
Opgave 4 Kleur 50% van de rechthoek.



Opgave 5 Kleur 50% van de fles.



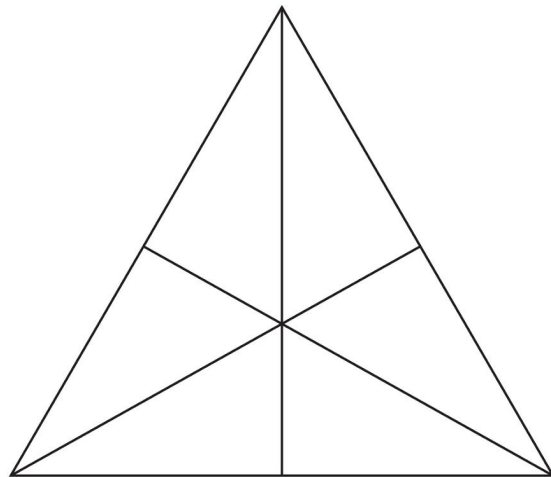
Opgave 6 Kleur 50% van de driehoek.



Opgave 7 Kleur 66,67% van de fles.



Opgave 8 Kleur 33,33%.



Opgave 9 Kleur 50% op 3 verschillende manieren.

--	--	--

Opgave 10 Kleur 75% op 3 verschillende manieren.

--	--	--