

## Tabellen, Grafieken & Getallenreeksen 4B

**Eiland:** Staafgrafieken tekenen  
**Leerdoel:** Weergeven van aantallen in hokjes









Kleurpotloden

### Opgave 1 Hoeveel stukken groente en fruit tel je?

Kleur bij elk stuk groente en fruit het juiste aantal hokjes.



10						
9						
8						
7						
6						
5						
4						
3						
2						
1						
						

## Opgave 2 Hoeveel voorwerpen tel je?

Kleur bij elk voorwerp het juiste aantal hokjes.



10						
9						
8						
7						
6						
5						
4						
3						
2						
1						

## Opgave 3 Hoeveel dieren tel je?


Kleur bij elk dier het juiste aantal hokjes.



10						
9						
8						
7						
6						
5						
4						
3						
2						
1						

## Opgave 4 Hoeveel voorwerpen tel je?

Kleur bij elk voorwerp het juiste aantal hokjes.



10					
9					
8					
7					
6					
5					
4					
3					
2					
1					

## Opgave 5 Hoeveel stukken groente en fruit tel je?

Kleur bij elk stuk groente en fruit het juiste aantal hokjes.



10						
9						
8						
7						
6						
5						
4						
3						
2						
1						

## Opgave 6 Hoeveel voorwerpen tel je?

Kleur bij elk voorwerp het juiste aantal hokjes.



10						
9						
8						
7						
6						
5						
4						
3						
2						
1						
	