

## Tabellen, Grafieken & Getallenreeksen 6B

**Eiland:** Staafgrafieken tekenen

**Leerdoel:** Teken van een staafgrafiek op basis van een tabel



Liniaal



Potlood



Kleurpotloden


### Opgave 1 Teken de staafgrafiek bij de tabel: Groene ogen in de onderbouw.

groep	groep 1	groep 2	groep 3	groep 4
aantal kinderen met groene ogen	5	9	7	2



### Opgave 2 Teken de staafgrafiek bij de tabel: Fouten in dictees.

dictee	dictee 1	dictee 2	dictee 3	dictee 4	dictee 5	dictee 6
aantal fouten	6	6	8	3	4	1




**Opgave 3** Teken de staafgrafiek bij de tabel: Tv-verkoop in winkels.

winkel	winkel A	winkel B	winkel C
aantal verkochte tv's	20	40	70



**Opgave 4** Teken de staafgrafiek bij de tabel: Aantal kinderen per groep.

groep	groep 3	groep 4	groep 5	groep 6	groep 7
aantal kinderen	20	55	80	60	35



**Opgave 5** Teken de staafgrafiek bij de tabel: Bestelde schoolspullen.

schoolspullen	schriften	boeken	potloden	pennen
aantal besteld	600	200	800	200


**Opgave 6** Teken de staafgrafiek bij de tabel: Dagelijks bezorgde brieven.

dagen	dinsdag	woensdag	donderdag	vrijdag
aantal bezorgde brieven	500	450	600	800

