

Tabellen, Grafieken & Getallenreeksen 7C

Eiland: Staafgrafieken tekenen

Leerdoel: Teken van een meervoudige staafgrafiek



Liniaal



Potlood



Kleurpotloden


Opgave 1 Teken de staafgrafiek bij de tabel: Brillen en beugels in de bovenbouw.

bovenbouwgroepen	groep 6	groep 7	groep 8
aantal kinderen met een bril	50	60	30
aantal kinderen met een beugel	10	30	20




Opgave 2 Teken de staafgrafiek bij de tabel: Wekelijks drinken.

dag	maandag	dinsdag	woensdag	donderdag	vrijdag
aantal glazen water	90	60	40	20	100
aantal glazen fris	90	40	50	10	70



Opgave 3 Teken de staafgrafiek bij de tabel: Verkoop in winkels.

winkel	winkel A	winkel B	winkel C
aantal verkochte tv's	300	200	900
aantal verkochte computers	600	600	100



Opgave 4 Teken de staafgrafiek bij de tabel: Lidmaatschap sportclubs

sport	tennis	hockey	voetbal	zwemmen
jongens	200	550	950	200
meisjes	500	550	700	350


Opgave 5 Teken de staafgrafiek bij de tabel: Verkochte bloemen per winkel.

winkel	de Bloem	Het Roosje	de Tulp
aantal verkochte rozen	3000	3500	2000
aantal verkochte tulpen	4000	5500	9500



Opgave 6 Teken de staafgrafiek bij de tabel: Dagelijkse post.

dag	maandag	dinsdag	woensdag	donderdag	vrijdag	zaterdag
aantal bezorgde brieven	9500	5000	4500	6000	8000	3500
aantal bezorgde pakketten	5000	2500	9000	7000	6500	6000

