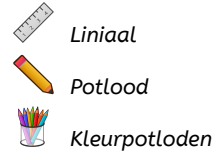


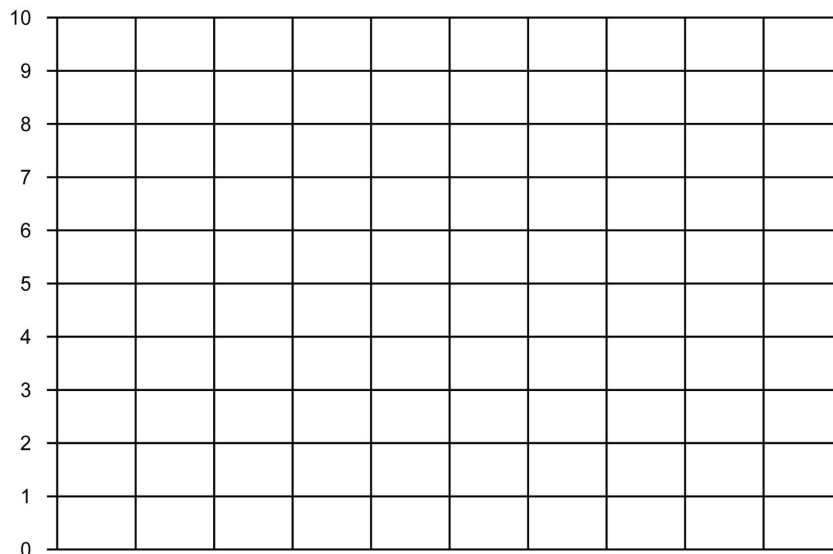
Tabellen, Grafieken & Getallenreeksen 8A

Eiland: Lijngrafieken tekenen
Leerdoel: Teken van een lijngrafiek op basis van een tabel




Opgave 1 Teken de lijngrafiek bij de tabel: Temperatuur per dagdeel.

dagdeel	's ochtends	's middags	's avonds
temperatuur	4 °C	9 °C	3 °C



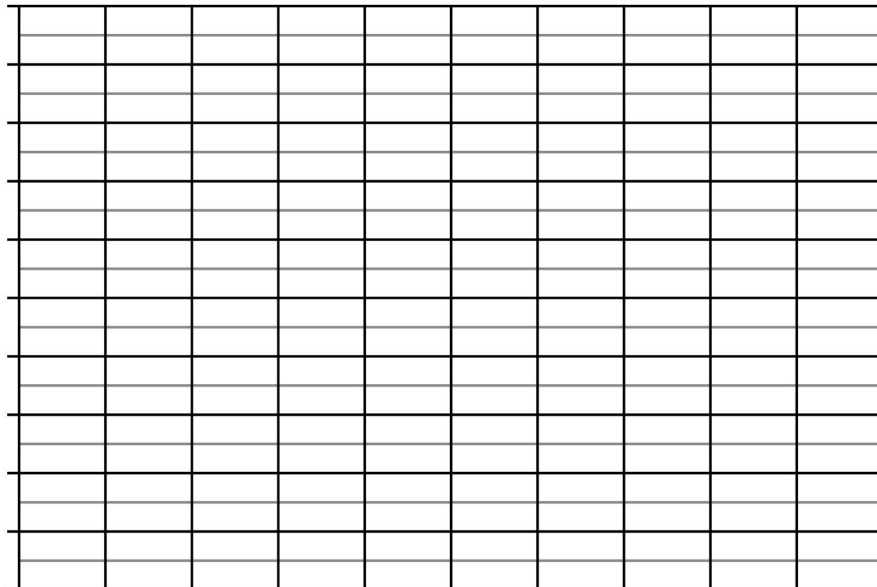
Opgave 2 Teken de lijngrafiek bij de tabel: Temperatuur per maand.

maand	november	december	januari	februari	maart	april
gemiddelde nachttemperatuur	2 °C	3 °C	5 °C	5 °C	7 °C	9 °C



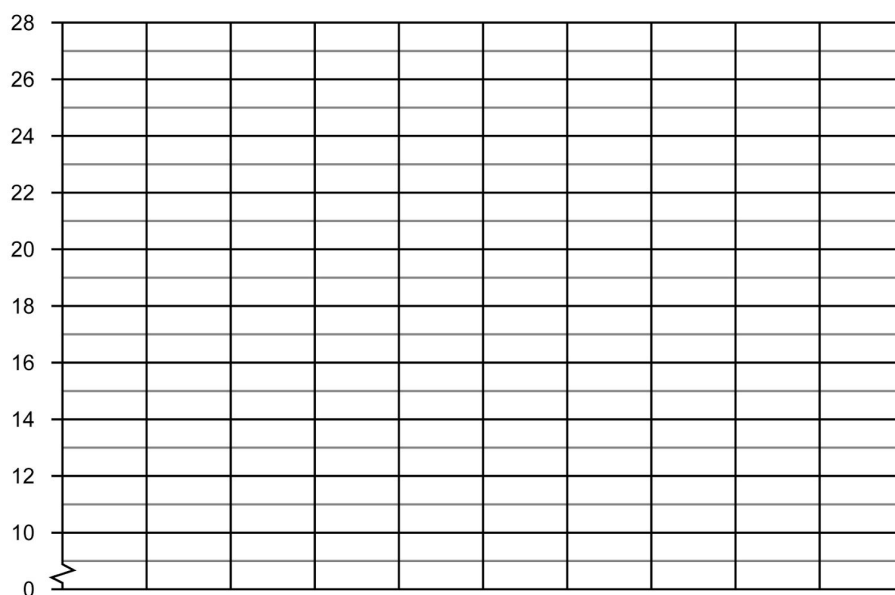
Opgave 3 Teken de lijngrafiek bij de tabel: Wekelijkse ijsverkoop.

week	week 1	week 2	week 3	week 4
aantal verkochte ijsjes	15	80	65	50



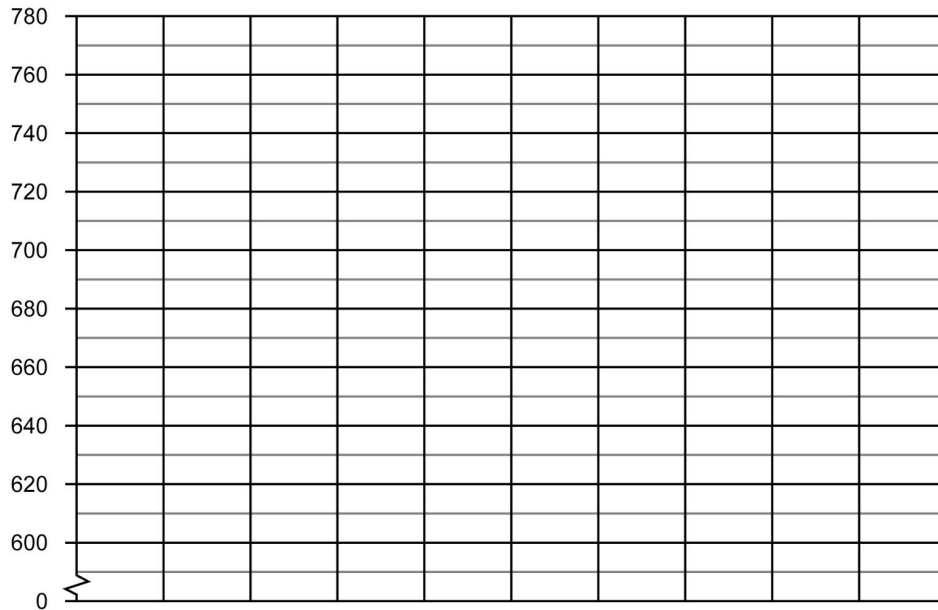
Opgave 4 Teken de lijngrafiek bij de tabel: Temperatuur per maand.

maand	februari	maart	april	mei	juni	juli
temperatuur	12 °C	15 °C	18 °C	19 °C	21 °C	22 °C



Opgave 5 Teken de lijngrafiek bij de tabel: Gewicht puppy.

dag	dag 1	dag 2	dag 3
gewicht van een puppy in gram	600	620	740


Opgave 6 Teken de lijngrafiek bij de tabel: Dagelijks bezorgde brieven.

dagen	maandag	dinsdag	woensdag	donderdag	vrijdag	zaterdag	zondag
aantal bezorgde brieven	950	500	450	600	800	350	50

