

## Tabellen, Grafieken & Getallenreeksen 8B

**Eiland:** Lijngrafieken tekenen  
**Leerdoel:** Teken van een lijngrafiek op basis van een tabel



Liniaal



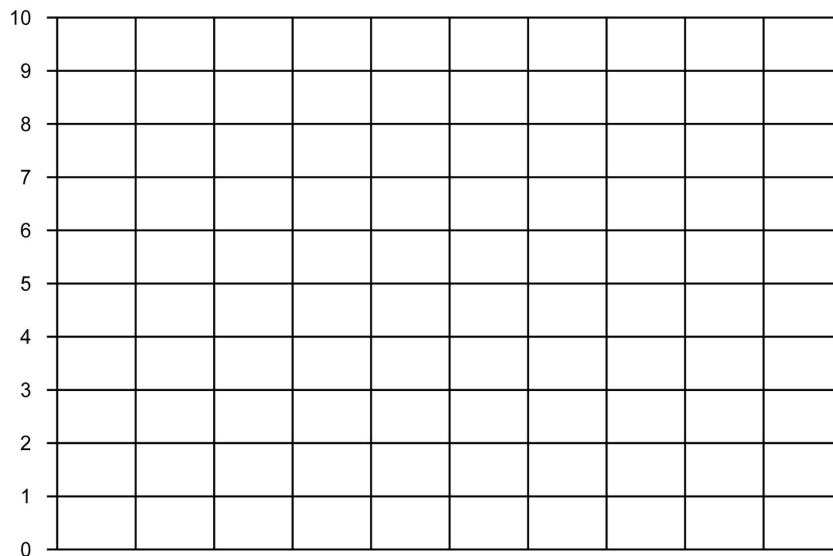
Potlood



Kleurpotloden


### Opgave 1 Teken de lijngrafiek bij de tabel: Leeftijdsgebonden zakgeld.

leeftijd	8 jaar	9 jaar	10 jaar	11 jaar
euro's zakgeld	€ 5,-	€ 6,-	€ 8,-	€ 10,-



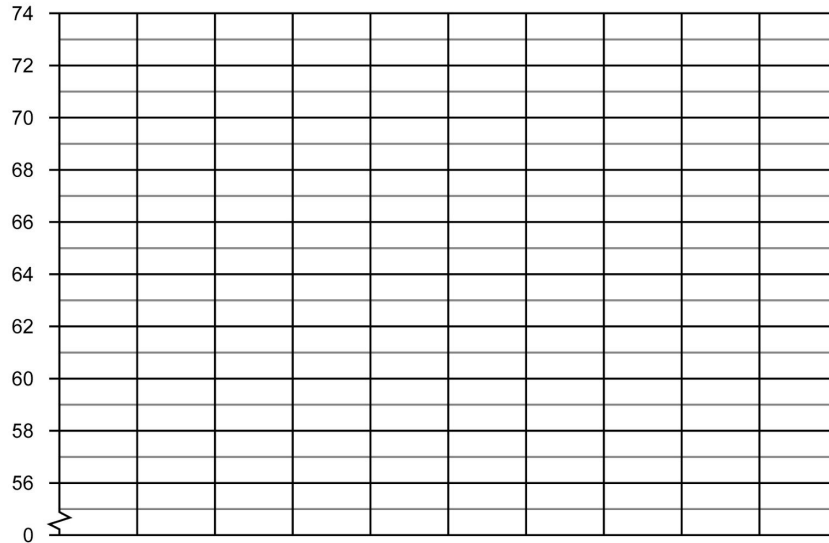
### Opgave 2 Teken de lijngrafiek bij de tabel: Uren regen per dag.

dag	maandag	dinsdag	woensdag	donderdag	vrijdag	zaterdag	zondag
aantal uren regen per dag	5	2	4	4	1	5	8



### Opgave 3 Teken de lijngrafiek bij de tabel: Gemiddelde lengte baby's.

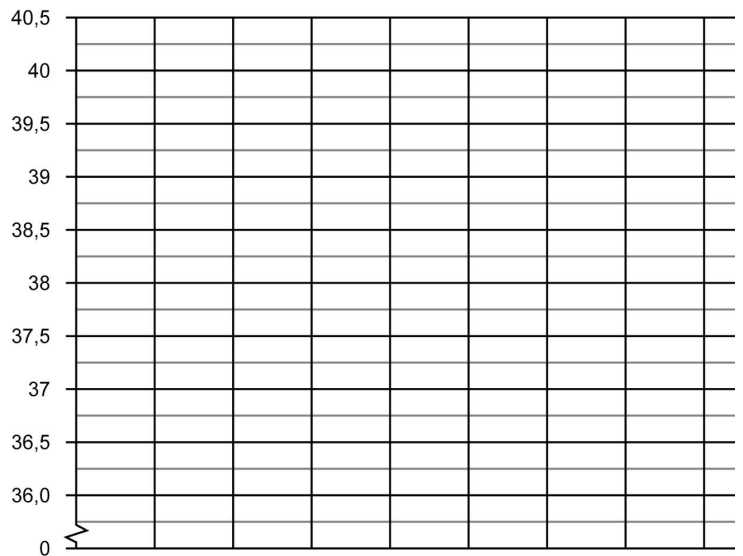
leeftijd in maanden	maand 1	maand 2	maand 3
lengte van een baby in cm	58	60	64



### Opgave 4 Teken de lijngrafiek bij de informatie: Gemeten lichaamstemperatuur per dag.

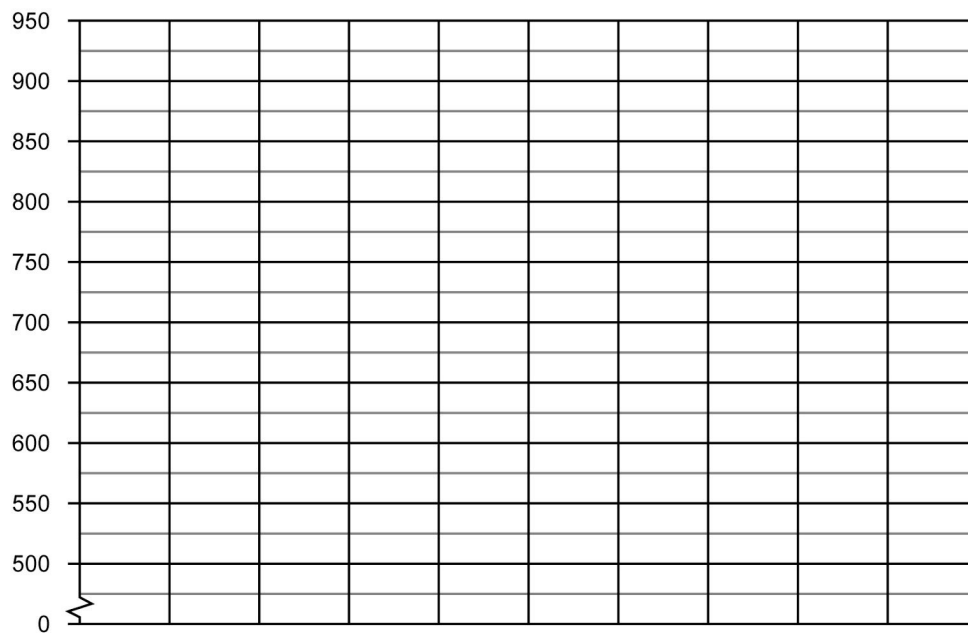


Ik heb uw temperatuur de hele week gemeten.  
 Op maandag 37,5 °C  
 Op dinsdag 39 °C  
 Op woensdag 40,5 °C  
 Op donderdag 38,5 °C  
 Op vrijdag 40 °C  
 Op zaterdag 39,5°C  
 Op zondag 37,5 °C



**Opgave 5** Teken de lijngrafiek bij de tabel: Bezoekers dierentuin De Grote Beer.

maand	juni	juli	augustus	oktober
aantal bezoekers	600	525	875	650


**Opgave 6** Teken de lijngrafiek bij de tabel: Wekelijkse bezoekers museum.

week	week 1	week 2	week 3	week 4	week 5	week 6
aantal bezoekers museum	250	900	400	550	750	400

