


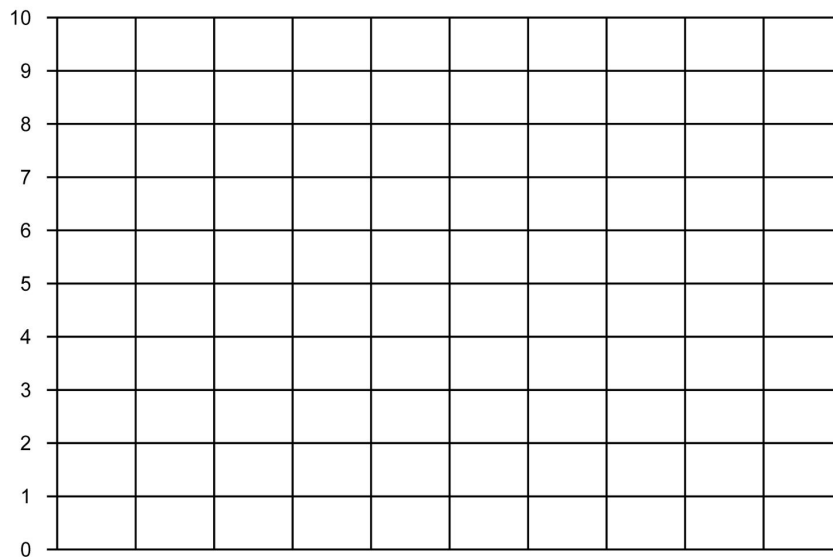
## Tabellen, Grafieken & Getallenreeksen 8C

**Eiland:** Lijngrafieken tekenen  
**Leerdoel:** Teken van een lijngrafiek op basis van een tabel




### Opgave 1 Teken de lijngrafiek bij de tabel: Temperatuur per dagdeel.

dagdeel	's ochtends	's middags	's avonds
temperatuur	2 °C	8 °C	1 °C



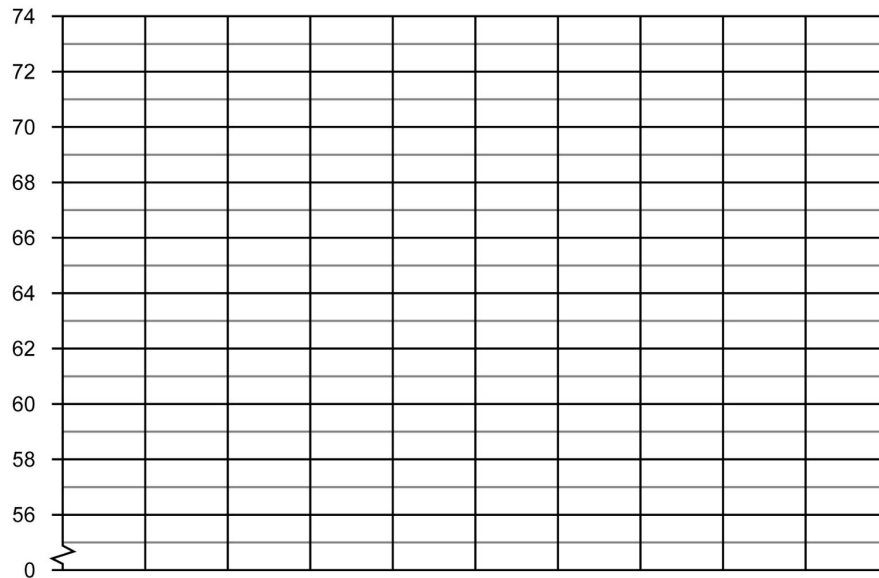
### Opgave 2 Teken de lijngrafiek bij de tabel: Uren huiswerk per week.

week	week 1	week 2	week 3	week 4	week 5
aantal uren huiswerk	10	8	5	2	8

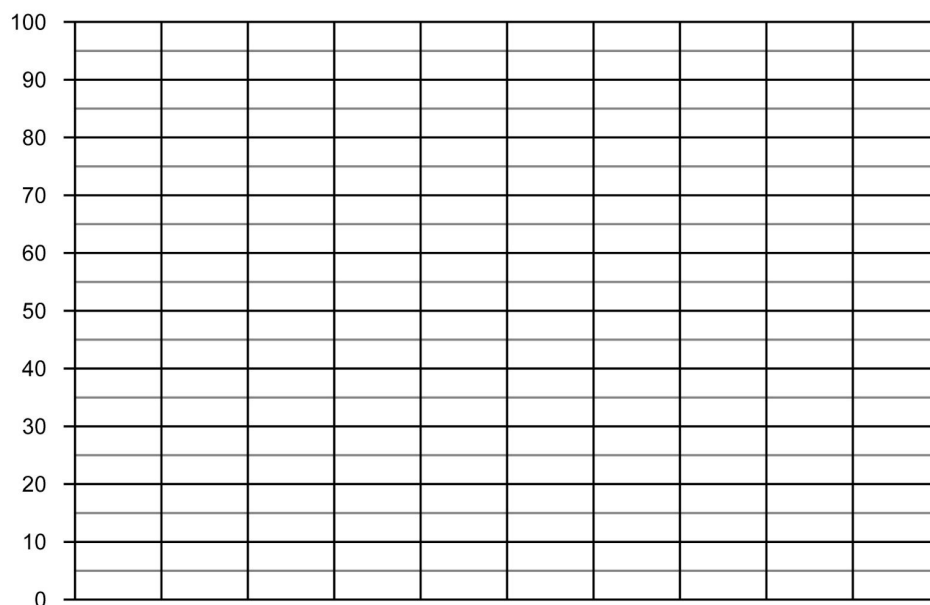


**Opgave 3** Teken de lijngrafiek bij de tabel: Gemiddelde lengte baby's.

leeftijd in maanden	maand 1	maand 2	maand 3
lengte van een baby in cm	56	59	63

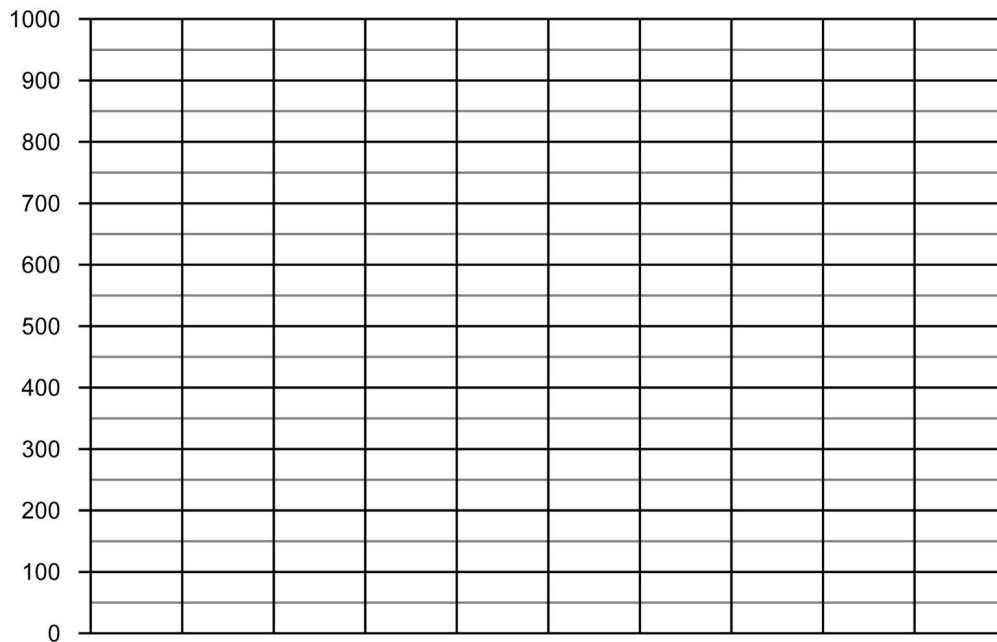

**Opgave 4** Teken de lijngrafiek bij de tabel: Klanten in de winkel.

dag	maandag	dinsdag	woensdag	donderdag	vrijdag
aantal klanten in de winkel	80	75	90	55	60



**Opgave 5** Teken de lijngrafiek bij de tabel: Tablet-verkoop in winkels.

winkel	Gigant	Techneut	Media	Megabite	Gigabite
aantal verkochte tablets	150	800	550	450	700


**Opgave 6** Teken de lijngrafiek bij de tabel: Wekelijkse bezoekers dierentuin.

week	week 1	week 2	week 3	week 4	week 5	week 6
aantal bezoekers dierentuin	350	800	500	450	850	600

