

Tabellen, Grafieken & Getallenreeksen 9A

Eiland: Lijngrafieken tekenen
Leerdoel: Teken van een meervoudige lijngrafiek



Liniaal



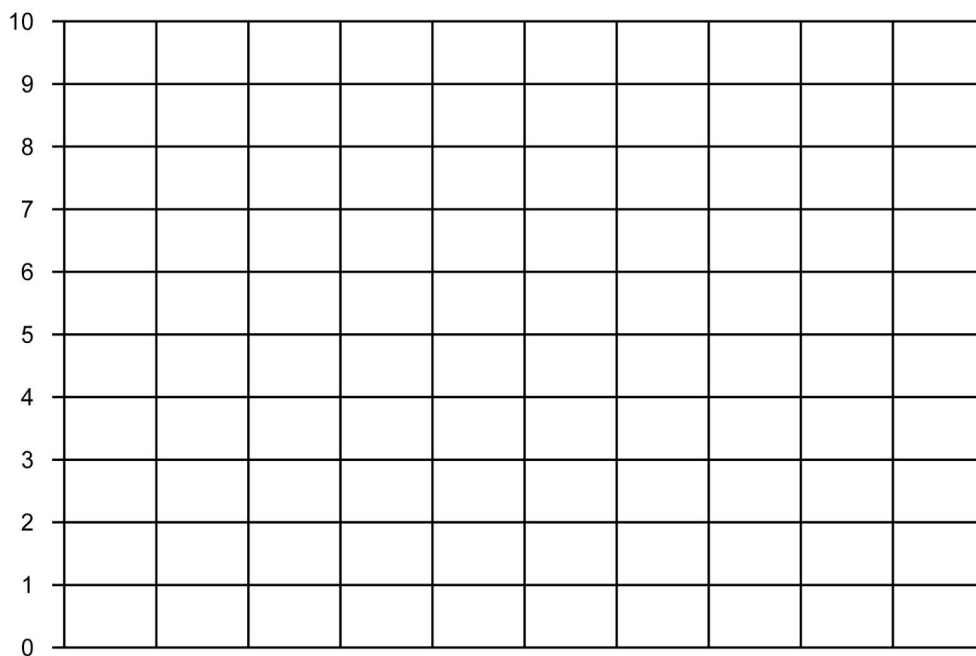
Potlood



Kleurpotloden

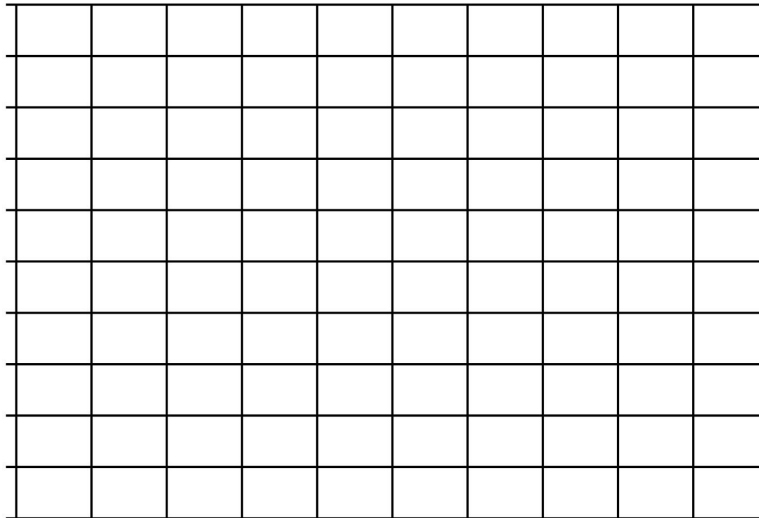
Opgave 1 Teken de lijngrafiek bij de tabel: Leeftijdsgebonden zakgeld.

leeftijd	8 jaar	9 jaar	10 jaar	11 jaar
euro's zakgeld meisjes	€ 5,-	€ 6,-	€ 8,-	€ 10,-
euro's zakgeld jongens	€ 6,-	€ 8,-	€ 9,-	€ 10,-

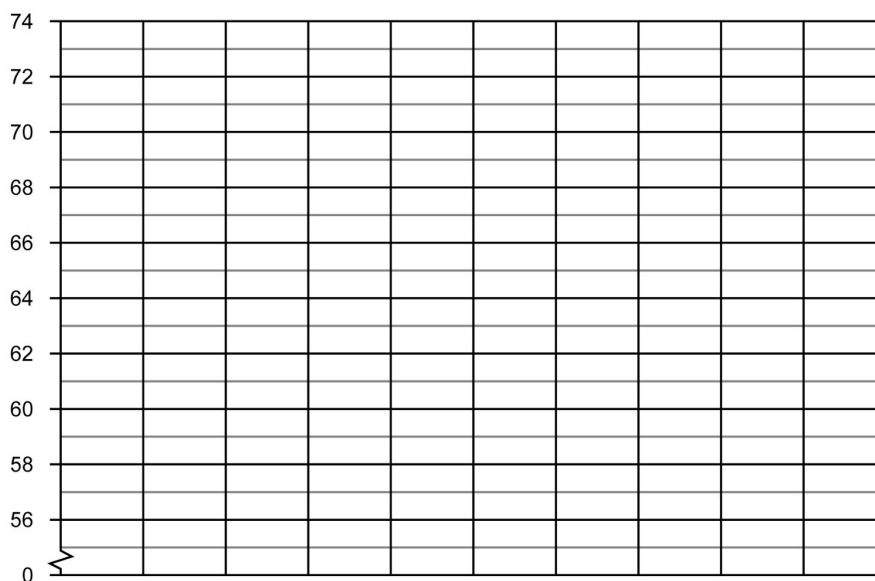


Opgave 2 Teken de lijngrafiek bij de tabel: Uren regen en sneeuw per dag.

dag	maandag	dinsdag	woensdag	donderdag	vrijdag	zaterdag	zondag
aantal uren regen per dag	5	2	4	4	1	5	8
aantal uren sneeuw per dag	1	2	2	0	4	2	1

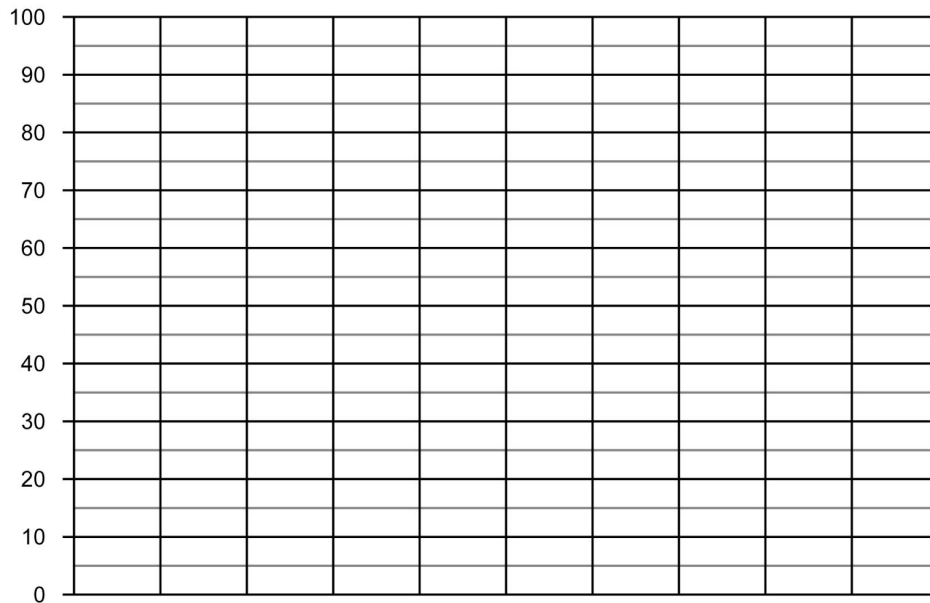

Opgave 3 Teken de lijngrafiek bij de tabel: Gemiddelde lengte baby's.

leeftijd in maanden	maand 1	maand 2	maand 3
lengte van een baby in cm jongen	58	60	64
lengte van een baby in cm meisje	60	62	66

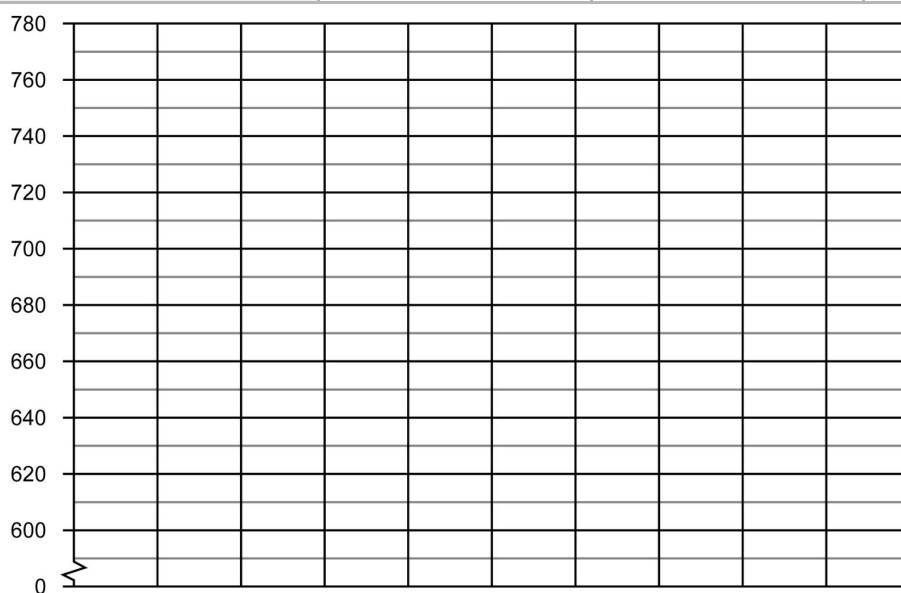


Opgave 4 Teken de lijngrafiek bij de tabel: Klanten in de winkel.

dag	maandag	dinsdag	woensdag	donderdag	vrijdag
aantal mannelijke klanten	80	75	90	55	60
aantal vrouwelijke klanten	60	55	100	25	40


Opgave 5 Teken de lijngrafiek bij de tabel: Gewicht puppy en katten.

dag	dag 1	dag 2	dag 3
gewicht van een puppy in gram	660	700	740
Gewicht van een katten in gram	600	620	680



Opgave 6 Teken de lijngrafiek bij de tabel: Dagelijks bezorgde brieven en pakketten.

dagen	maandag	dinsdag	woensdag	donderdag	vrijdag	zaterdag	zondag
aantal bezorgde brieven	950	500	450	600	800	350	50
aantal bezorgde pakketten	750	600	200	450	800	300	100
