

Tabellen, Grafieken & Getallenreeksen 9B

Eiland: Lijngrafieken tekenen
Leerdoel: Teken van een meervoudige lijngrafiek



Liniaal



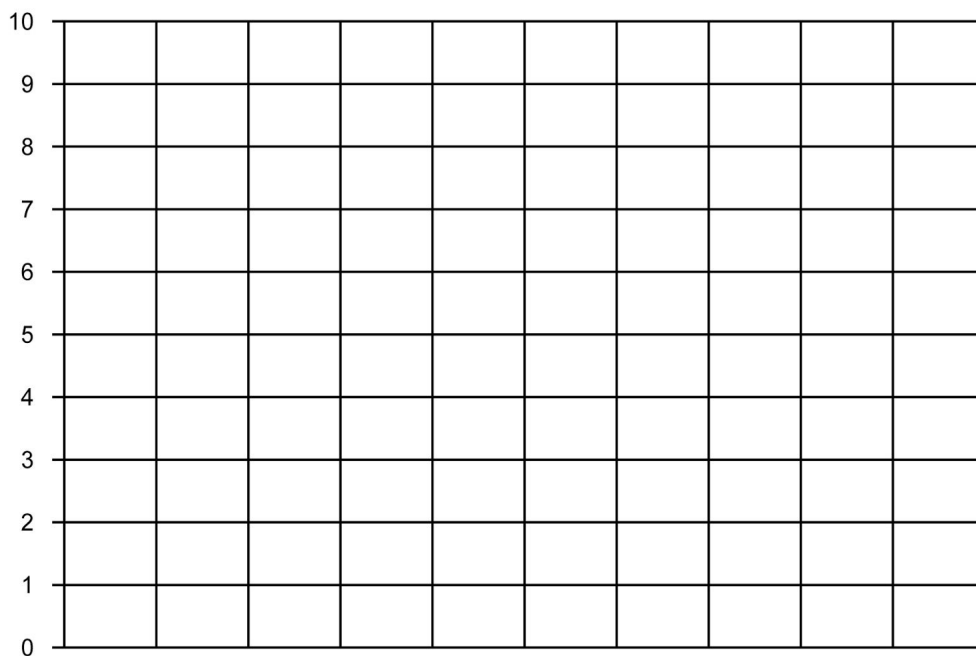
Potlood



Kleurpotloden

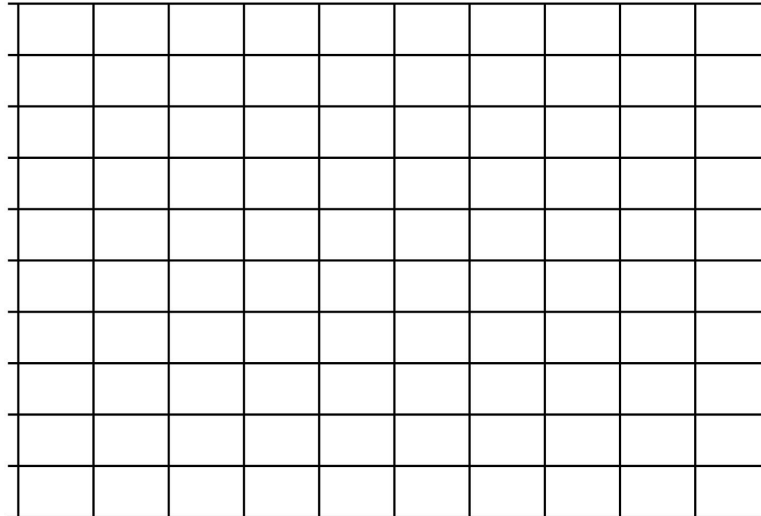
Opgave 1 Teken de lijngrafiek bij de tabel: Temperatuur per dagdeel.

dagdeel	maandag	dinsdag	woensdag
dagtemperatuur	4 °C	9 °C	3 °C
nachttemperatuur	1 °C	3 °C	1 °C



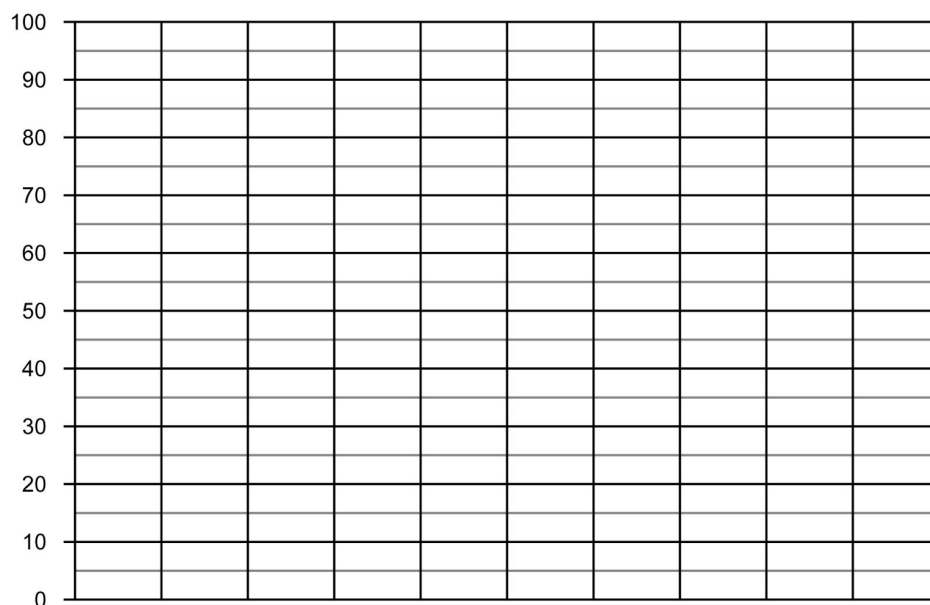
Opgave 2 Teken de lijngrafiek bij de tabel: Uren huiswerk en sporten per week.

week	week 1	week 2	week 3	week 4	week 5
aantal uren huiswerk	10	8	5	2	8
aantal uren sporten	5	6	5	8	3



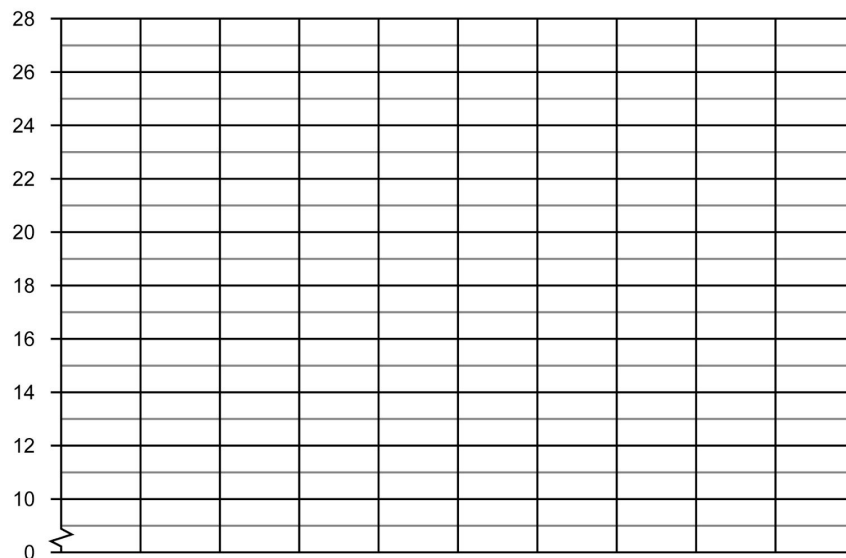
Opgave 3 Teken de lijngrafiek bij de tabel: Leeftijdsgebonden zakgeld.

leeftijd	15 jaar	16 jaar	17 jaar	18 jaar
euro's zakgeld jongen	€ 30,-	€ 35,-	€ 50,-	€ 65,-
euro's zakgeld meisje	€ 30,-	€ 40,-	€ 45,-	€ 60,-

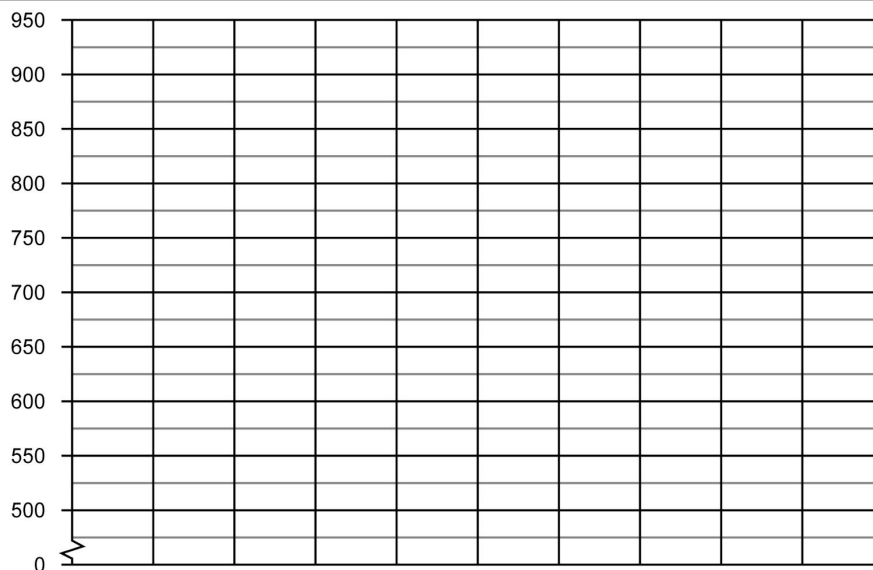


Opgave 4 Teken de lijngrafiek bij de tabel: Temperatuur per maand

maand	februari	maart	april	mei	juni	juli
dagtemperatuur	12 °C	15 °C	18 °C	19 °C	21 °C	22 °C
nachttemperatuur	8 °C	8 °C	10 °C	10 °C	12 °C	14 °C


Opgave 5 Teken de lijngrafiek bij de tabel: Bezoekers dierentuin De Grote Beer.

maand	juni	juli	augustus	oktober
aantal volwassenen	600	525	875	650
aantal kinderen	900	725	650	850



Opgave 6 Teken de lijngrafiek bij de tabel: Verkoop in winkels.

winkel	Gigant	Techneut	Media	Megabite	Gigabite
aantal verkochte tablets	150	800	550	450	700
aantal verkochte tv's	250	500	250	600	800

